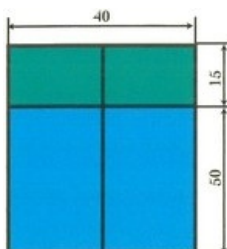
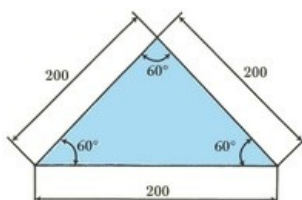


### Exercice 1


1. Écrivez une procédure nommée «fenêtre» ayant pour résultat la figure suivante :




2. Écrivez une procédure nommée «toit» ayant pour résultat la figure suivante :



3. Écrivez une procédure nommée «mur» ayant pour résultat la figure suivante :



4. Écrivez une procédure nommée «porte» ayant pour résultat la figure suivante :



5. En vous servant de toutes les procédures ci-dessus, écrivez la suite d'instructions permettant d'obtenir le dessin d'une maison ayant la forme de l'illustration suivante :

