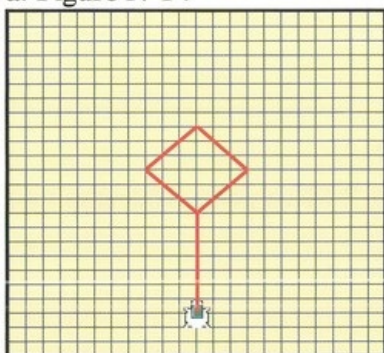



Exercice 1

1. Écrivez les instructions LOGO permettant d'obtenir les figures suivantes :

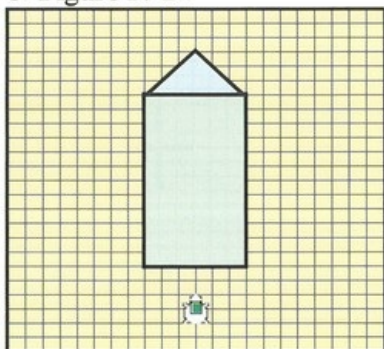
a. Figure N°1 :



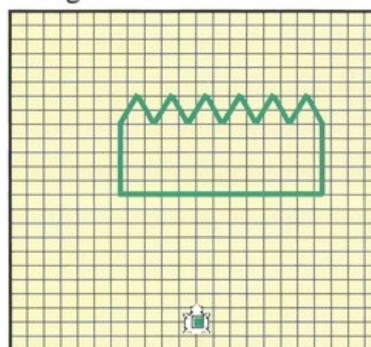
c. Figure N°3 :



b. Figure N°2 :



d. Figure N°4 :



Exercice 2

1. Indiquez pour chaque cas de figure suivantes :
 - a. La forme qui se répète (son dessin) ;
 - b. Le nombre de fois que cette forme se répète ;
 - c. La position et l'orientation que doit avoir la tortue avant de commencer le dessin de cette forme ;
 - d. Les instructions de déplacement de la tortue entre la fin d'une forme et le début de la forme suivante ;
 - e. Le code Logo complet pour obtenir le dessin entier.

Figure 1

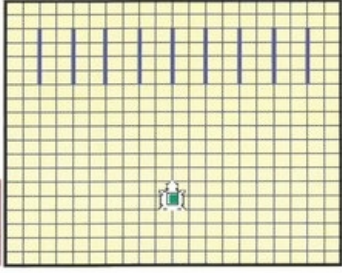


Figure 3

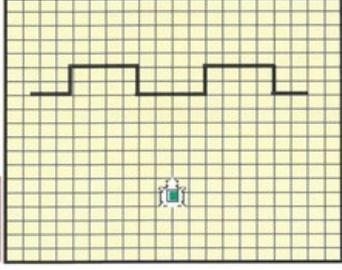


Figure 2

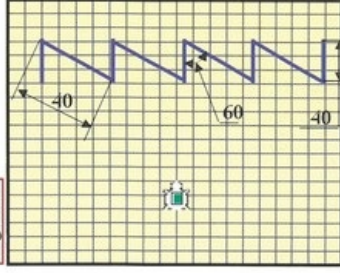


Figure 4

