



التاريخ والجغرافيا - الثانية باك آداب وعلوم إنسانية

درس الجغرافيا 1-2

الولايات المتحدة الأمريكية (قوة اقتصادية عظيمة)

الأستاذ: حسن شداوي

الفهرس

I- أهداف التعلم

II- تقديم

III- عوامل القوة الاقتصادية للولايات المتحدة الأمريكية

1-3 / المؤهلات الطبيعية المساعدة على تفوق الاقتصاد الأمريكي

2-3 / المؤهلات البشرية المساعدة على تفوق الاقتصاد الأمريكي

3-3 / مساهمة الجوانب التنظيمية والعلمية في دعم التفوق الاقتصادي الأمريكي

IV- مظاهر القوة الاقتصادية للولايات المتحدة الأمريكية

1-4 / مظاهر قوة الفلاحة الأمريكية والعوامل المفسرة لذلك

2-4 / مظاهر قوة الصناعة الأمريكية والعوامل المفسرة لذلك

3-4 / مظاهر قوة التجارة الأمريكية والعوامل المفسرة لذلك

V- الصعوبات والتحديات التي تعترض الاقتصاد الأمريكي

1-5 / الصعوبات والتحديات البيئية

2-5 / الصعوبات والتحديات الاجتماعية

3-5 / الصعوبات والتحديات الاقتصادية

VI- مصطلحات ومفاهيم

VII- تقويم التعلّات

I- أهداف التعلم

1. أتبين أسس تفوق الاقتصاد الأمريكي ومظاهره.

2. أتمكن من إعمال النهج الجغرافي وتوظيف وسائل التعبير الجغرافي في تفسير مقومات التفوق الاقتصادي الأمريكي.
3. أعي حجم التحديات الداخلية والخارجية التي تواجه الاقتصاد الأمريكي.

II- تقديم

تعتبر الولايات المتحدة الأمريكية أول قوة اقتصادية في العالم، وذلك بفضل استثمارها الجيد لمواردها الطبيعية ومؤهلاتها البشرية وتطورها التكنولوجي الهام وتنظيمها الرأسمالي المحكم، ومع ذلك فالاقتصاد الأمريكي لا يخلو من عدة مشاكل.

- فما هي مظاهر وعوامل القوة الاقتصادية للولايات المتحدة الأمريكية ؟
- وما هي الصعوبات التي تعترض الاقتصاد الأمريكي ؟

III- عوامل القوة الاقتصادية للولايات المتحدة الأمريكية

3-1/ المؤهلات الطبيعية المساعدة على تفوق الاقتصاد الأمريكي

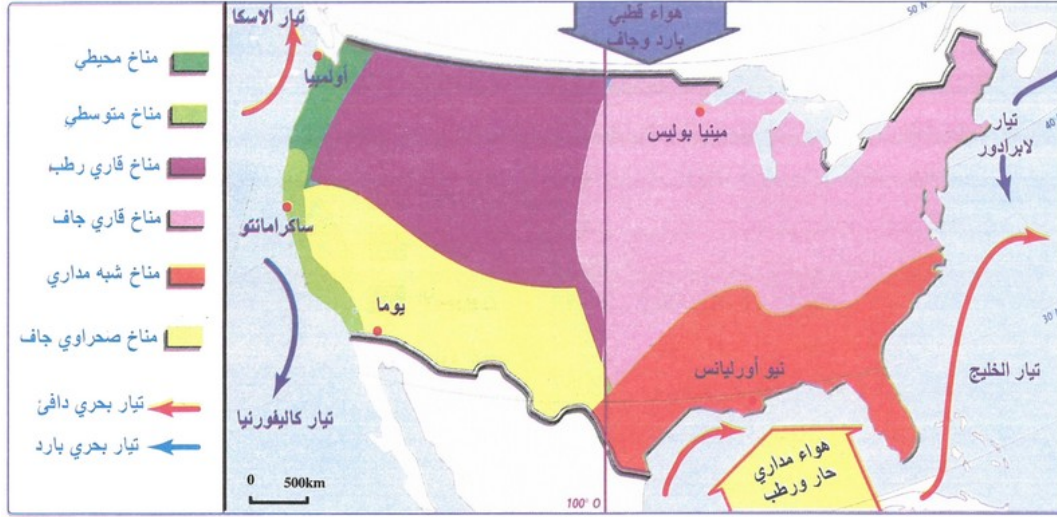
الأنشطة

الوثيقة 1 : تضاريس الولايات المتحدة الأمريكية



1. أستخرج أشكال التضاريس بالولايات المتحدة الأمريكية.
2. أستخلص المؤهلات التي توفرها التضاريس للاستغلال الفلاحي بالولايات المتحدة الأمريكية.

الوثيقة 2 : مناخ الولايات المتحدة الأمريكية



1. أحد أنواع المناخات السائدة بالولايات المتحدة الأمريكية.

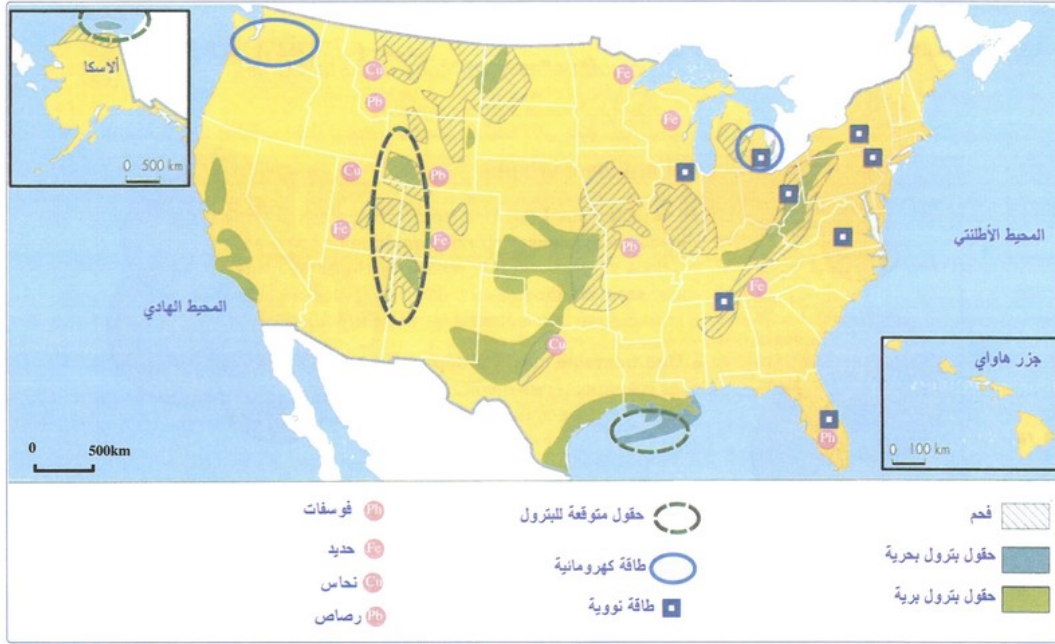
الوثيقة 3 : خصائص المناخ في الولايات المتحدة الأمريكية

نماذج لمتوسطات الحرارة (C°)			التساقطات (mm)	المناخ
متوسط يوليو	متوسط يناير	المرصد		
19°	-10°	مينابوليس	بين 1000 و 1500	القاري الرطب
28°	11°	نيو أورليانس	1500 (الصيف)	الشبه مداري
17°	4°	أولمبيا	1200 و 2000	المحيطي
21°	7°	ساكرامنتو	500 (الشتاء)	المتوسطي
33°	13°	يوما	70	الصحراوي الجاف

1. أستنتج خصائص التساقطات والحرارة للمناخات السائدة بالولايات المتحدة الأمريكية.

2. أستخلص دور هذه الخصائص المناخية في تعزيز التفوق الاقتصادي الأمريكي.

الوثيقة 4 : مصادر الطاقة والمعادن في الولايات المتحدة الأمريكية



1. أحد الثروات المعدنية والطاقة التي تتوفر عليها الولايات المتحدة الأمريكية، ثم أصف توزيعها الجغرافي.
2. أستخلص أهمية هذه الثروات في تعزيز تطور الأنشطة الصناعية.

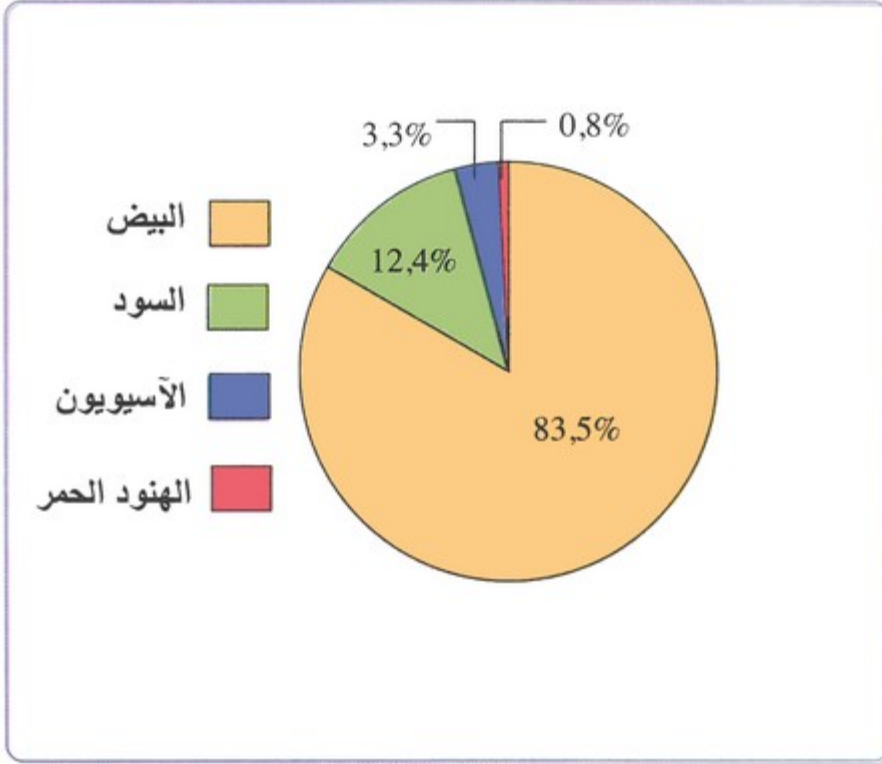
ملخص الدرس

تستفيد الفلاحة الأمريكية من ظروف طبيعية ملائمة، تتمثل في غلبة السهول والمنخفضات المتركرة في وسط وشرق البلاد، بالإضافة إلى خصوبة التربة، وتنوع المناخ، والتوفر على أطول شبكة نهريّة في العالم (نهر المسيسيبي وروافده)، أما الصناعة الأمريكية فتستفيد من وفرة الثروات الطبيعية، حيث تعد من أهم الدول المنتجة لمصادر الطاقة كالفحم الحجري والبتروّل والغاز الطبيعي، وكذا للمعادن كالحديد والنحاس والفوسفات، لكن رغم ذلك تلجأ الولايات المتحدة الأمريكية إلى الاستيراد أمام قوة التصنيع.

2-3 / المؤهلات البشرية المساعدة على تفوق الاقتصاد الأمريكي

الأنشطة

الوثيقة 1 : البنية العرقية لسكان الولايات المتحدة الأمريكية



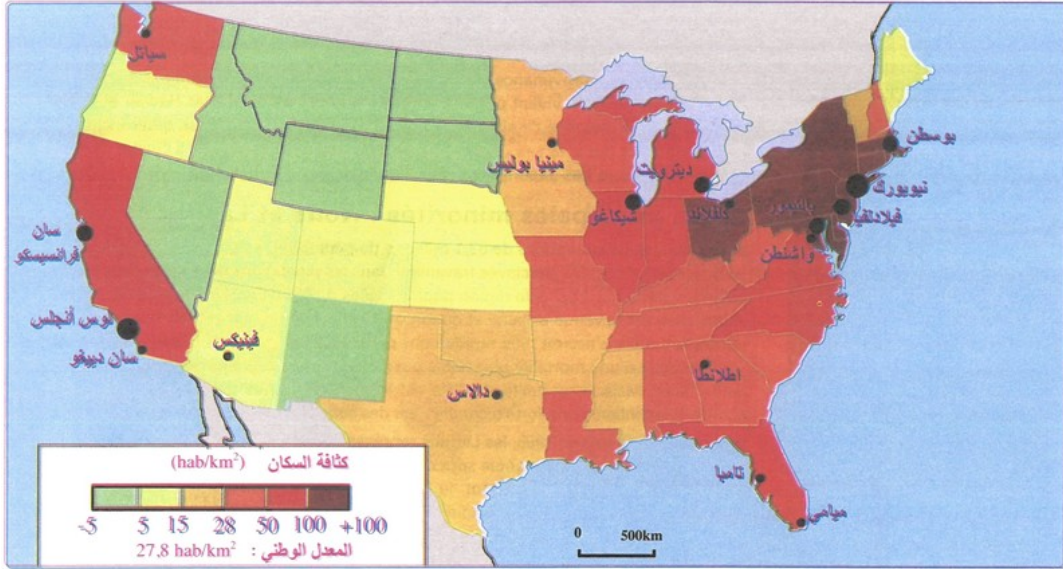
1. أستخرج مكونات البنية العرقية وأرتبها حسب الأهمية.

الوثيقة 2 : تطور الهجرات بالولايات المتحدة الأمريكية

" منذ القرن 16م استقر في الولايات المتحدة الأمريكية
أزيد من 50 مليون مهاجر. وإلى غاية 1940 جاءت أغلبية
المهاجرين من أوروبا، خاصة ما بين 1840 و 1850. وإذا كانت
الهجرة أنجلوساكسونية في بدايتها، فإنها ستوسع خلال
الربع الأخير من القرن 19م إلى البلدان الأوربية المتوسطة
(خاصة الإيطاليين) وأوربا الوسطى.
في الوقت الراهن يأتي معظم الوافدين من بلدان العالم
الثالث... ويحتمل أن تكون الهجرة السرية أكثر أهمية من
الهجرة الشرعية (القانونية).. وتزايدت منذ 1990 بسبب
الأزمة الاقتصادية التي تعرفها دول أمريكا اللاتينية".

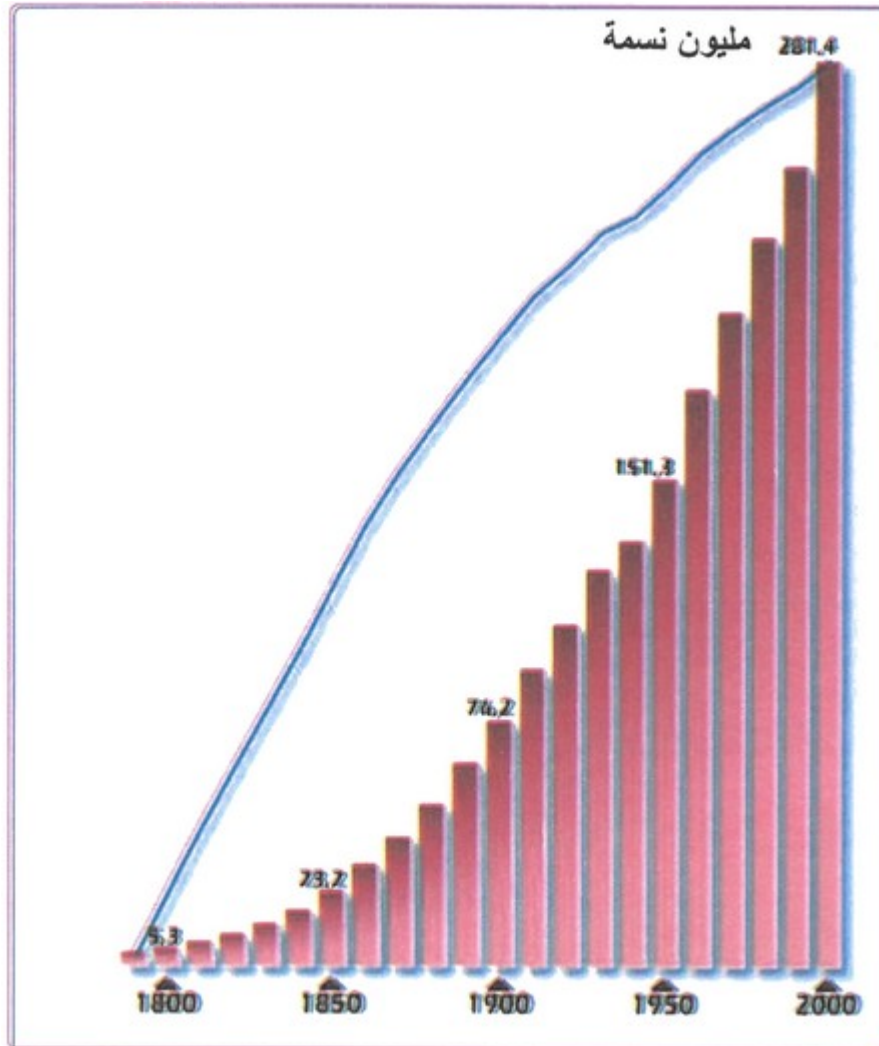
1. أحدد التطورات الكبرى للهجرة نحو الولايات المتحدة الأمريكية، ثم أتبين مساهمتها في تعمير البلاد.

الوثيقة 3 : التوزيع الجغرافي لسكان الولايات المتحدة الأمريكية



1. أصف التوزيع الجغرافي للسكان، وأوضح العوامل المتحكمة فيه.
2. أستخلص دور هذه القوة البشرية في تعزيز الاقتصاد الأمريكي.

الوثيقة 4 : تطور عدد السكان بالولايات المتحدة الأمريكية



1. أميز بين مراحل تطور السكان بالولايات المتحدة الأمريكية، ثم أفسر ذلك.

ملخص الدرس

تضم الولايات المتحدة الأمريكية ثالث تجمع سكاني في العالم بفعل استقبالها للمهاجرين وضمنهم الأطر العليا، وينتج عن ذلك وفرة اليد العاملة والسوق الاستهلاكية، وتتميز الولايات المتحدة الأمريكية بالتنوع العرقي وارتفاع نسبة الساكنة الحضرية، ويتباين التوزيع الجغرافي لساكنة الولايات المتحدة الأمريكية حيث ترتفع الكثافة السكانية في المنطقة الشرقية والساحل الغربي بسبب ملائمة الظروف الطبيعية وأهمية النشاط الاقتصادي، في المقابل فالكثافة السكانية ضعيفة في الغرب الداخلي أمام قساوة الظروف الطبيعية وهزالة النشاط الاقتصادي.

3-3/ مساهمة الجوانب التنظيمية والعلمية في دعم التفوق الاقتصادي الأمريكي

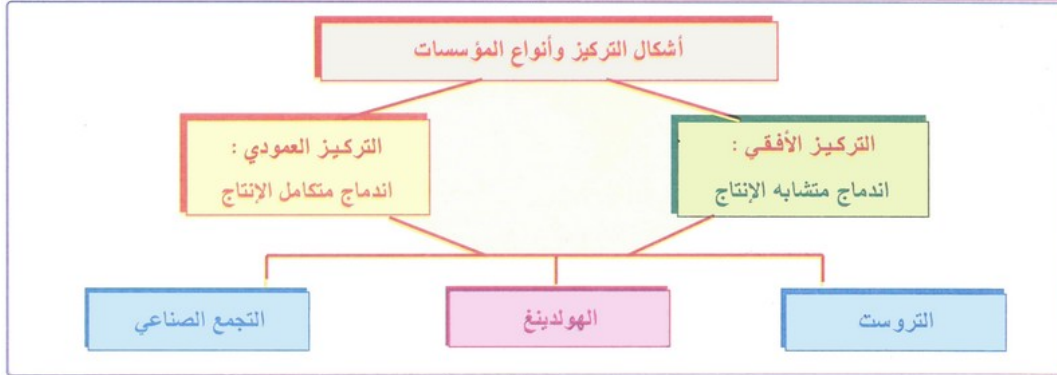
الأنشطة

الوثيقة 1 : الأسس التنظيمية للاقتصاد الأمريكي

"الولايات المتحدة الأمريكية بلد الليبرالية الاقتصادية... وتقوم قوتها الاقتصادية على عولمة واسعة بفضل الاستثمارات الضخمة للشركات الأمريكية المتعددة الجنسية في الخارج. إن التركيز في الصناعة والمال... والاتجاه الحالي للتركيز هو التجمع الصناعي Conglomerat الذي يضيف إلى الأشكال التقليدية للتركيز تنوعاً للأنشطة، ومن أهم هذه التجمعات Textron United Technology... وضمن سياستها الظرفية تعمل الدولة على التحكم في التضخم... ودعم النشاط الاقتصادي... ومساعدة الفلاحة والميدان المالي والمقاولة والصناعة الحرة."

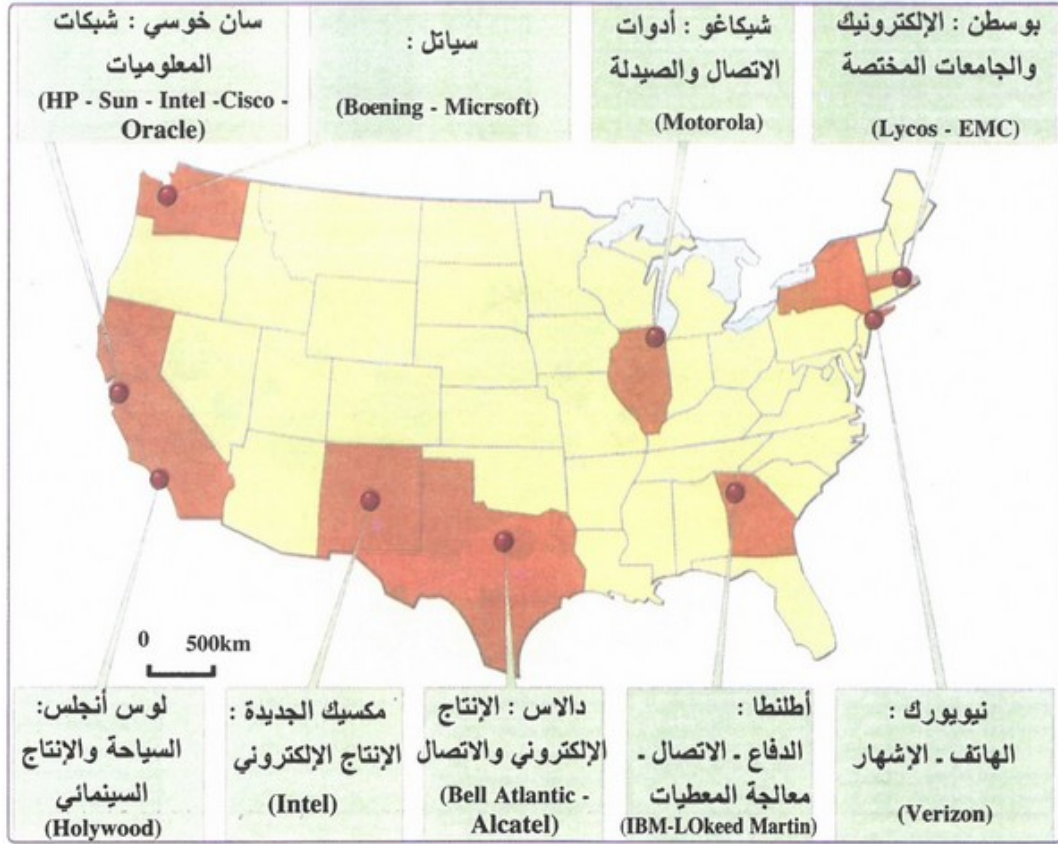
1. أحد من خلال النص المقومات التنظيمية للقوة الاقتصادية الأمريكية.

الوثيقة 2 : أشكال التركيز الرأسمالي



1. أعرف من خلال الخطاطة أشكال التركيز وأنواع المؤسسات الناتجة عنه.
2. أستخلص أدوار التركيز الرأسمالي والدولة في دعم النشاط الصناعي الأمريكي.

الوثيقة 3 : أهم ميادين البحث العلمي بالولايات المتحدة الأمريكية



1. أحد من خلال الخريطة خصائص التوزيع المجالي للصناعات الحديثة المتطورة.
2. أستخلص دور البحث العلمي في تطور الصناعة وتعزيز قوة الاقتصاد الأمريكي.

ملخص الدرس

يقوم النظام الرأسمالي الأمريكي على ثلاث مبادئ هي:

- الملكية الخاصة لوسائل الإنتاج.
- المنافسة الحرة.
- اعتبار الربح المحرك الأساسي لعملية الإنتاج.

وتتلخص مميزات النظام الرأسمالي في النقاط الآتية:

- التركيز الرأسمالي (الأفقي والعمودي) الذي أدى إلى ظهور المؤسسات القوية، من أبرزها "تروست" (شركة ضخمة ناتجة عن اندماج عدة شركات)، و "كونكلوميرا" (تجمع صناعي كبير لشركات متنوعة الإنتاج)، و "الهولدينغ" أو شركة التملك (مؤسسة مالية تمتلك غالبية أسهم عدة شركات مختلفة التخصصات).
- تدخل محدود للدولة في الاقتصاد، والذي لا يكون بارزا إلا عند حدوث الأزمات.
- التجديد المتواصل المعتمد على البحث العلمي والتكنولوجي، بالإضافة إلى ضخامة الاستثمارات وتشجيع الاستهلاك.

IV- مظاهر القوة الاقتصادية للولايات المتحدة الأمريكية

4-1/ مظاهر قوة الفلاحة الأمريكية والعوامل المفسرة لذلك

الأنشطة

الوثيقة 1 : أهم المنتجات الفلاحية الأمريكية سنة 2005

المرتبة العالمية	الحصة في الإنتاج العالمي	الإنتاج	المنتج
3°	9,4%	57,1	القمح (مليون طن)
1°	42,2%	280,2	الذرة (مليون طن)
11°	1,7%	10,2	الأرز (مليون طن)
10°	2,08%	25,8	قصب السكر (مليون طن)
2°	11,3%	27	الشمندر (مليون طن)
2°	-	12,5	القطن (مليون طن)
1°	-	67	الصوجا (مليون طن)
4°	-	95,8	الأبقار (مليون رأس)

1. أستنتج خصائص الإنتاج الفلاحي الأمريكي ومكانته العالمية.

الوثيقة 2 : التوزيع المجالي للإنتاج الفلاحي بالولايات المتحدة الأمريكية



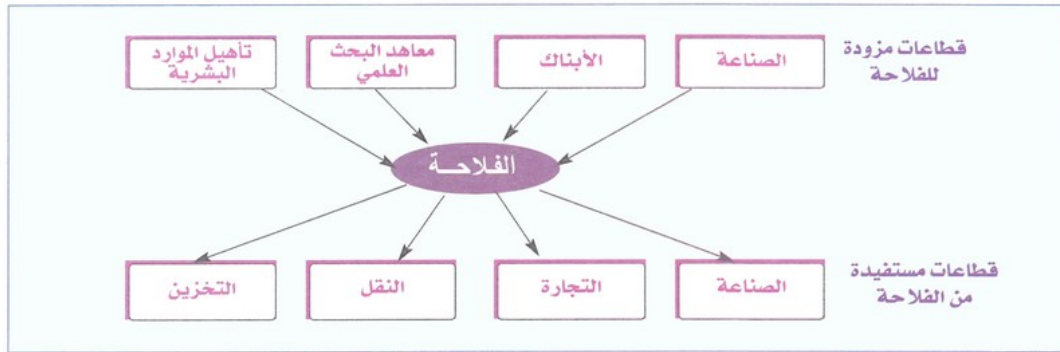
1. أصنف المجالات الفلاحية الأمريكية، ثم أصف التوزيع الجغرافي للمنتجات الفلاحية.
2. أفسر العوامل المتحركة في هذا التوزيع.
3. أستخلص دينامية الفلاحة الأمريكية وعلاقتها بالمجال الخارجي على الصعيد العالمي.

الوثيقة 3 : بعض مؤهلات الفلاحة الأمريكية

برامج دعم الفلاحة	مؤهلات طبيعية ومكنتة متطورة
<p>" أقرت الإدارة الأمريكية في مايو 2002 قانون برنامج فلاحي يمتد على مدى عشر سنوات، وبغلاف مالي يبلغ 190 مليار دولار، وهو ما يشكل زيادة لا مثيل لها في الدعم الموجه للفلاحة. وارتفعت مساعدات الدولة للحفاظ على التربة بـ 80%، ومساعداتها الموجهة لمنتجات المواد الحليبية والقمح والذرة بـ 60% لضمان حد أدنى لأسعار البيع".</p> <p>المصدر : Atlas Geo. 2003</p>	<p>" تحتل الفلاحة الأمريكية المرتبة الأولى عالميا بفضل مناخ ملائم وتربة خصبة... وتميز بتجهيزها القوي والمتطور... وساهم نمو المكنتة واعتماد فلاحة علمية في تراجع عدد الفلاحين... وتعرف الفلاحة الأمريكية تحول الأحزمة الوحيدة المنتوج إلى زراعة متنوعة بفضل التناوب الزراعي...".</p> <p>المصدر : Encarta 2006</p>

1. أستخرج من خلال النصين المؤهلات الطبيعية والتنظيمية التي تفسر قوة الفلاحة الأمريكية.

الوثيقة 4 : الأكروبيزنس (قوة اندماج الفلاحة في الاقتصاد)



1. أعرف بالاكروبيزنس.

2. أستخلص من خلال الخطاطة العلاقات المتبادلة بين الفلاحة وباقي القطاعات الاقتصادية، ثم أستنتج دور ذلك في دعم قوة الفلاحة الأمريكية.

ملخص الدرس

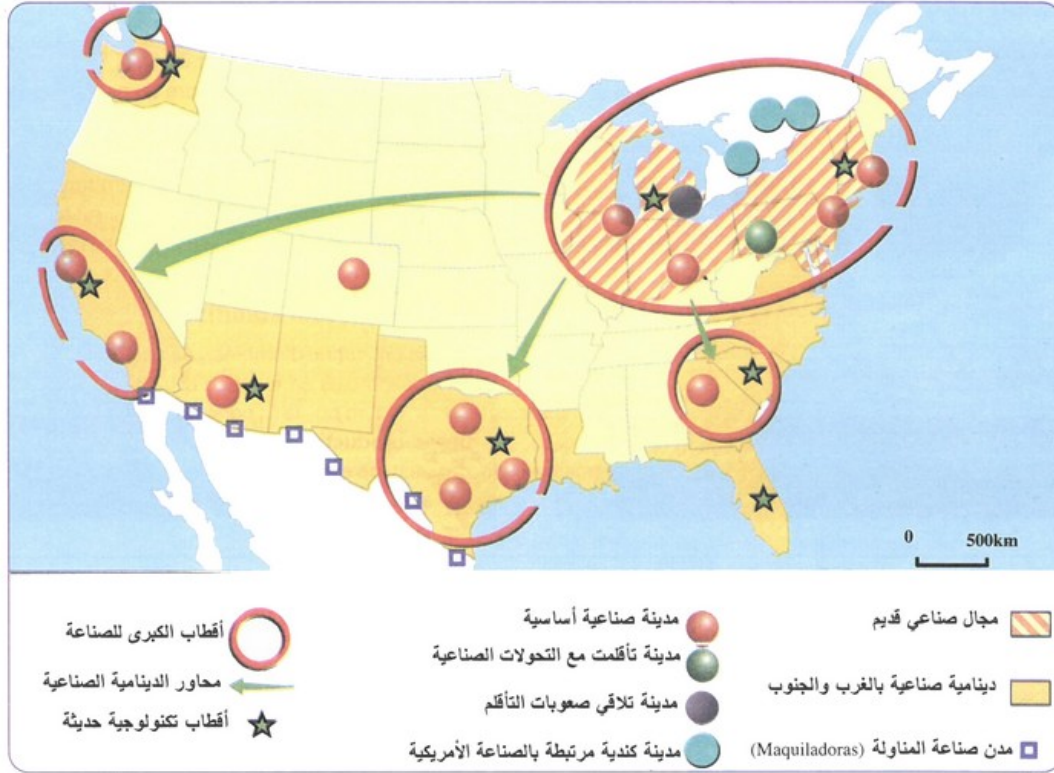
تساهم الولايات المتحدة الأمريكية بحصص مرتفعة من الإنتاج العالمي للحبوب (القمح، الذرة، الشعير، الأرز)، والمزروعات الصناعية (الصوجا، القطن، الشمندر، قصب السكر)، وبعض أنواع الخضر والفواكه، وتمتلك قطيعا مهما من المواشي، كما تعد الولايات المتحدة الأمريكية أول مصدر عالمي للمنتجات الفلاحية من بينها القمح والذرة والصوجا، ويتمركز النشاط الفلاحي الأمريكي في السهول الكبرى (الوسطى) التي تعتبر أكبر مجال فلاحي في العالم، إلى جانب المناطق الساحلية في شرق وغرب وجنوب البلاد، في المقابل فالنشاط الفلاحي ضعيف في الغرب الداخلي.

وتتداخل الفلاحة مع القطاعين الثاني والثالث في إطار ما يعرف "أكروبيزنس"، وتستخدم التقنيات والأساليب الحديثة.

4-2/ مظاهر قوة الصناعة الأمريكية والعوامل المفسرة لذلك

الأنشطة

الوثيقة 1 : التوزيع المجالي للصناعة الأمريكية وتحولاته



1. أميز من خلال الخريطة بين المناطق الصناعية الكبرى في الولايات المتحدة.

2. أفسر التوزيع الجغرافي للأنشطة الصناعية الأمريكية.

3. أرصد التحولات التي يعرفها التوزيع المجالي للصناعة الأمريكية.

الوثيقة 2 : إنتاج بعض الصناعات الأمريكية ومكانتها العالمية سنة 2003

الصناعة	المؤشرات	الصلب	الألومنيوم	المطاط الاصطناعي	عجين الورق والورق	السيارات	الطائرات
الإنتاج	98.9 م طن	27 م طن	2.1 م طن	95 م طن	11.9 م وحدة	285 (بوينغ)	
المرتبة العالمية	3	4	1	1	1	1	(2)

1. أستنتج أهمية الصناعة في الاقتصاد الأمريكي، ثم أشخص مظاهر قوة الصناعة الأمريكية على الصعيد العالمي.

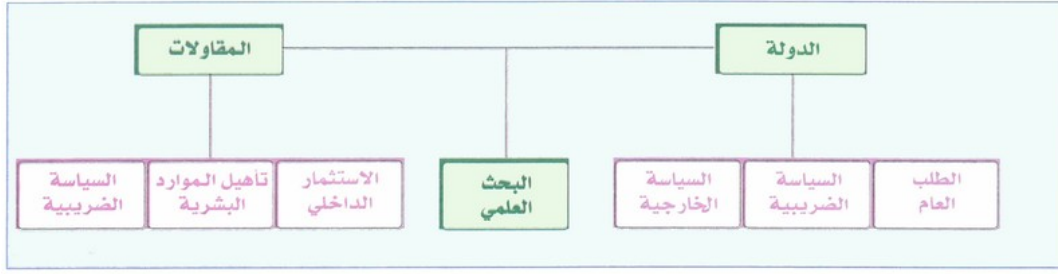
الوثيقة 3 : مظاهر قوة الصناعة العالية التكنولوجيا

" إن نمو الصناعات العالية التكنولوجيا يرتكز على استثمارات ضخمة في مخبرات الأقطاب الجامعية الكبرى ... وتعتبر شبكة الأقطاب التكنولوجية الأمريكية الأقوى في العالم، وهي تعتمد على عدة مقاولات متخصصة في تكنولوجيا الإعلام، والبيوتكنولوجيا.

ففي الولايات المتحدة تم اختراع الالكترونيك، الحاسوب... وتمثل (و.م.أ) أول سوق للحواسيب بـ 41% من مجموع السوق العالمية... وتوجد الصناعات الأمريكية للالكترونيك في العالم أجمع من خلال شركاتها المتعددة الجنسية مثل IBM وهويلت باكارد Hewlett Packard وكومباك Compaq."

1. أتبين المقومات المساعدة على تطور الصناعات العالية التكنولوجيا بالولايات المتحدة الأمريكية.

الوثيقة 4 : وسائل مساهمة الدولة والمقاولات في تقوية الصناعة الأمريكية



1. أستخلص أدوار الدولة والمقاولات في المجال الصناعي من خلال الخطاطة.

ملخص الدرس

حتل الولايات المتحدة الأمريكية مراتب جد متقدمة في مختلف الصناعات سواء منها الأساسية أو التجهيزية والاستهلاكية، ومن بين هذه الصناعات صناعة الصلب والسيارات والصناعة الكيماوية والصناعات العالية كصناعة الإلكترونيك والمعلومات والطائرات ومعدات غزو الفضاء، وتضم الولايات المتحدة الأمريكية مناطق صناعية رئيسية هي:

- الشمال الشرقي: مجال صناعي قديم عرف تحديث الهياكل الصناعية، وينقسم إلى قسمين هما نطاق البحيرات الكبرى (من أبرز مدنه شيكاغو، ديترويت)، ونطاق الميكالوبوليس (نطاق المدن العملاقة: نيويورك، واشنطن، بوسطن).
- الجنوب: يشمل مدنا صناعية كبيرة من أهمها دلاس، أطلنطا، هوستن.
- الغرب الساحلي: ويشمل مدنا صناعية كبيرة من بينها لوس أنجلس، سان فرانسيسكو، سياتل...

3-4 / مظاهر قوة التجارة الأمريكية والعوامل المفسرة لذلك

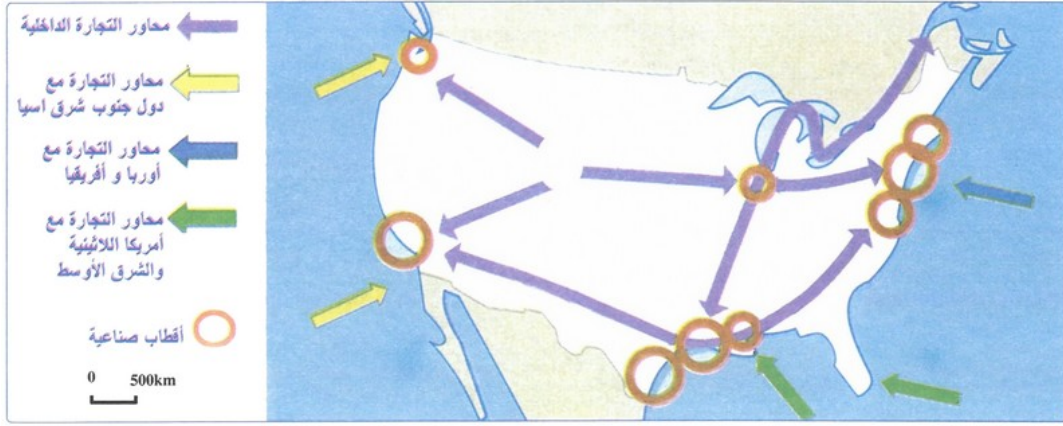
الأنشطة

الوثيقة 1 : قيمة التجارة الخارجية الأمريكية ومكانتها العالمية (2004)

القيمة (مليار دولار)	الحصة في التجارة العالمية	
811	12%	الصادرات
1473	24%	الواردات
2284	18%	المجموع

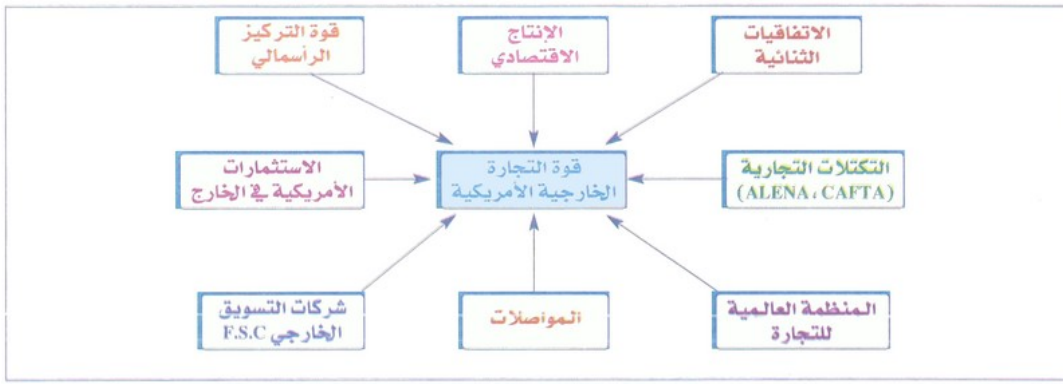
1. أستنتج من خلال الجدول مظاهر قوة التجارة الخارجية للولايات المتحدة الأمريكية.

الوثيقة 2 : المحاور الرئيسية للتجارة الخارجية الأمريكية



1. أثبتت من خلال الخريطة أهمية توفر الولايات المتحدة الأمريكية على واجهتين بحريتين في دعم التجارة.

الوثيقة 3 : عوامل قوة التجارة الخارجية الأمريكية



1. أستخرج العوامل الداخلية والخارجية المفسرة لقوة التجارة الخارجية الأمريكية.
2. أعرف بالمؤسسات الداعمة للتفوق التجاري الأمريكي.

الوثيقة 4 : المواصلات في الولايات المتحدة الأمريكية ومساهمتها في النقل الداخلي

عدد المطارات	الشبكة الملاحية	الطرق السيارة	الطرق	السكك الحديدية	طول الشبكة
14 695	41 000	80 000	6 380 000	330 000	
18%	0,7%	—	78,3%	3%	الحصة في نقل المسافرين
6%	4%	—	73%	8%	الحصة في نقل السلع

1. أحلل بنية المواصلات الأمريكية ومساهمة كل وسيلة في نقل المسافرين والسلع.

ملخص الدرس

تحتكر الولايات المتحدة الأمريكية ما يناهز خمس التجارة العالمية، وتعتبر أول مصدر ومستورد عالمي، ويشكل قطاع التجارة والخدمات الجزء الأكبر من الناتج الداخلي الخام، وتتعامل الولايات المتحدة الأمريكية مع مختلف دول العالم، خاصة دول القارة الأمريكية ودول آسيا وأوروبا الغربية، وتغلب المنتجات الصناعية على الصادرات والواردات الأمريكية، وتعد الولايات المتحدة الأمريكية أول مستثمر خارجي في العالم، وتتمركز استثماراتها في أوروبا وأمريكا اللاتينية وآسيا وكندا، في نفس الوقت تعتبر أول بلد في العالم مستقطب لرؤوس الأموال الأجنبية.

V- الصعوبات والتحديات التي تعترض الاقتصاد الأمريكي

1-5/ الصعوبات والتحديات البيئية

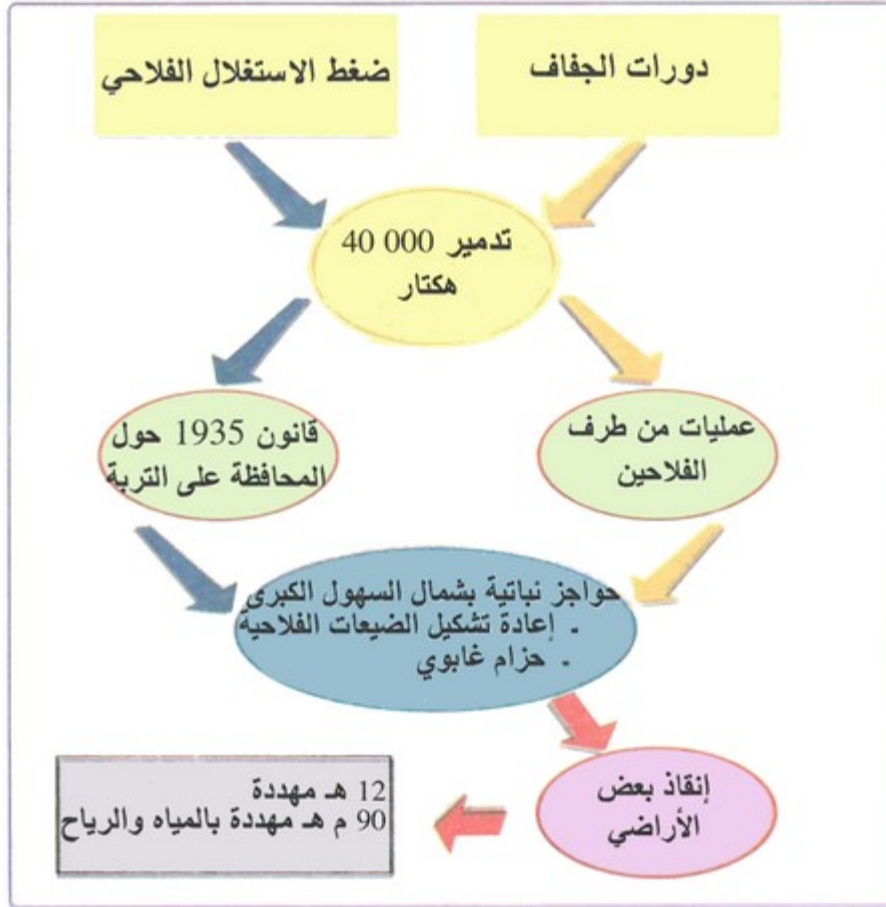
"تضم الولايات المتحدة مجالا يعرف
أخطارا متعددة من كاليفورنيا الى الجنوب
الشرقي (رياح قوية Tornades وأعاصير
Hurricanes) مرورا بالجنوب والشمال
والشمال الشرقي (فيضانات، عواصف
ثلجية، رياح باردة قطبية، شدة الحرارة
صيفا...)
خلال عقدي الثمانينيات والتسعينيات
سجلت عدة أنواع من الكوارث الطبيعية
التي خلفت عددا مهما من الضحايا."

1. أستخرج من النص الكوارث و الأخطار الطبيعية التي تتعرض لها الولايات المتحدة الأمريكية.
2. أفسر العوامل المسببة في هذه الكوارث.

الوثيقة 2 : مظاهر تضرر البيئة

"إن ارتفاع مستوى العيش في الولايات المتحدة الأمريكية
خلق تمدينا واسعا... وترك النمو الاقتصادي والصناعي
خصوصا، آثاراً ملحوظاً على البيئة : تزايد حالات تلوث
الهواء، وتلوث المياه سواء مياه الأنهار أو البحيرات أو الساحل،
وتراكم النفايات السامة في الهواء الطلق..."

1. أحدد مظاهر تلوث البيئة في الولايات المتحدة الأمريكية.
- الوثيقة 3 : أخطار التعرية الريحية (السهول الكبرى)



1. أستخرج الأخطار المترتبة عن التعرية الريحية بالولايات المتحدة الأمريكية
2. أستخلص الأخطار البيئية التي تتهدد الولايات المتحدة الأمريكية.

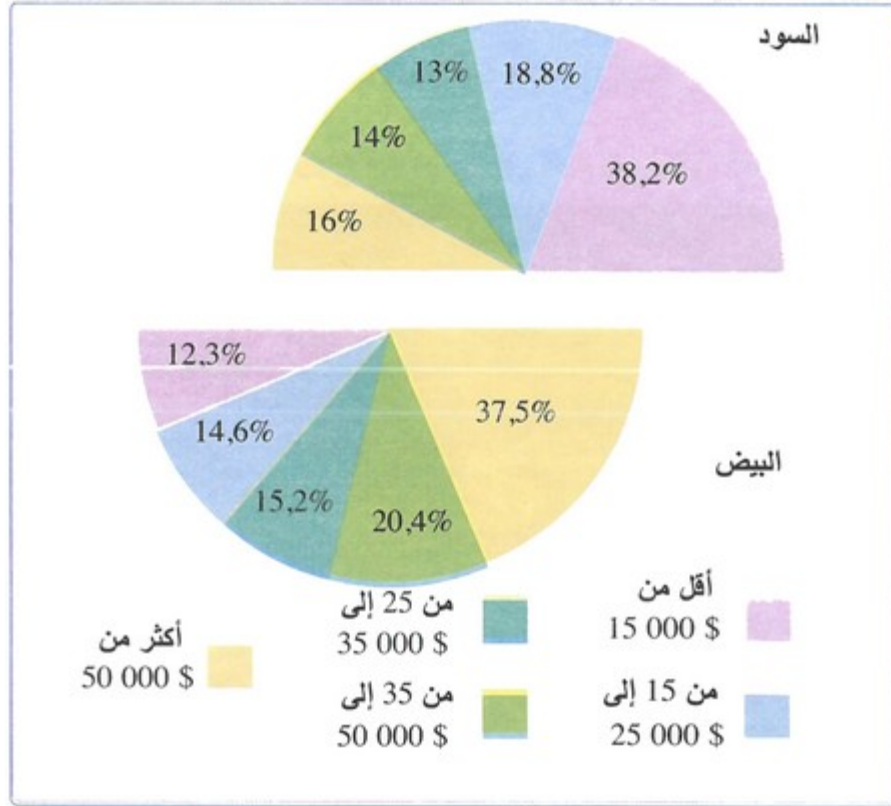
ملخص الدرس

تعاني الولايات المتحدة الأمريكية من عدة مشاكل بيئية تتركز شرق البلاد، ومنها: الكوارث الطبيعية المستمرة كالأعاصير والفيضانات التي يتعرض لها الجنوب الشرقي، والتي تخلف عدة خسائر طبيعية وبشرية، ونظراً للاستغلال المفرط لخيراتها الطبيعية فالبلاد تعاني في قسمها الشمالي الشرقي من مشكل تلوث مياه الأنهار والتساقطات المطرية الحمضية، كما توجد بالبلاد عدة مناطق مهددة بالتصحر، ويضاف إلى كل تلك المشاكل احتلال الولايات المتحدة الصدارة في قائمة البلدان المسؤولة عن انبعاث الغازات السامة مما يطرحها أمام تحديات جديدة.

2-5/ الصعوبات والتحديات الاجتماعية


الأنشطة

الوثيقة 1: توزيع الأسر حسب مستوى الدخل السنوي (%).



1. أصف توزيع الدخل السنوي حسب الأسر بالولايات المتحدة الأمريكية.

الوثيقة 2: احتجاجات ذوي الدخل المحدود



1. أستنتج نوعية الأسر المتضررة اجتماعيا، ثم أعلل ذلك.

ملخص الدرس

تتمثل في انتشار الفقر مع تباين حدته من منطقة لأخرى، حيث ترتفع نسبة الفقر في بعض الولايات إلى أزيد من 17% مثل المكسيك الجديدة، بينما تقل في ولايات أخرى عن 10% كولاية فرجينيا، وتعاني البلاد كذلك من مشكل خطير يتمثل في ارتفاع نسبة البطالة خاصة في صفوف السود الأمريكيين، وتزداد هذه المشكلة مع حدة كل فترة أو أزمة اقتصادية، هذا ناهيك عن مشكل الارتفاع المتزايد لنسبة الشيوخ.

3-5/ الصعوبات والتحديات الاقتصادية

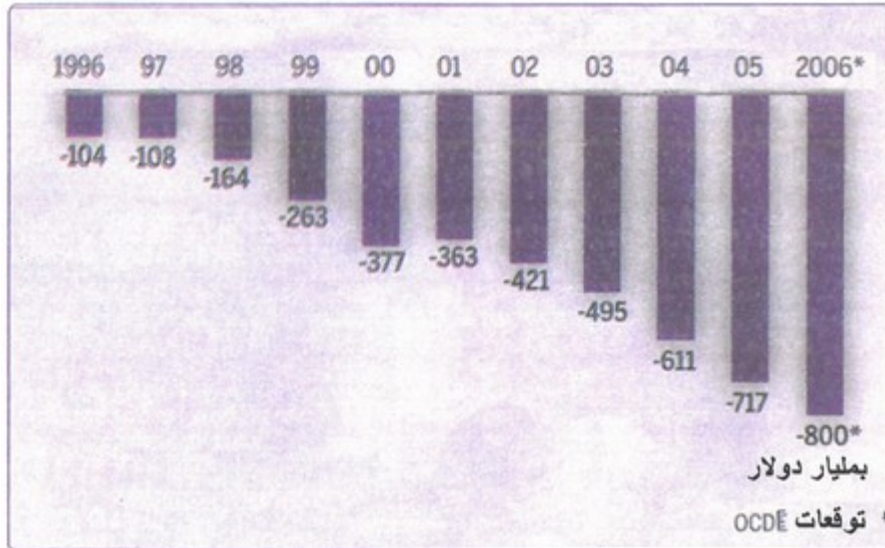
الأنشطة

الوثيقة 1 : أخطار المنافسة الخارجية



1. أصف من خلال الكاريكاتور طبيعة المنافسة الخارجية التي تتعرض لها الولايات المتحدة الأمريكية.

الوثيقة 2 : تطور العجز التجاري الأمريكي (1996 - 2006)



1. أستخلص انطلاقا من المبيان انعكاسات هذه المنافسة على تطور الميزان التجاري الأمريكي.

ملخص الدرس

الفلاحة :

- مشكل فائض الانتاج وصعوبة تسويقه دوليا.
- انهالك التربة واتلافها بفعل عوامل التعرية (الرياح، الأمطار، الحرارة).
- تلوث الأنهار ومياه الفرشة المائية.

الصناعة :

- المنافسة الداخلية من طرف منتجات الصين، اليابان...
- المنافسة في الأسواق الخارجية.
- تلوث البيئة الناتج عن كثرة المصانع.
- ارتباط الصناعة بحاجياتها من المعادن ومصادر الطاقة من الخارج.

التجارة :

- عجز الميزان التجاري الأمريكي بفعل تراجع القدرة التنافسية للمنتوجات الأمريكية دوليا.
- عجز الميزانية العمومية بفعل ارتفاع النفقات العسكرية في الخارج (أفغانستان، العراق...).

VI- مصطلحات ومفاهيم

داو جونز

مؤشر الأسهم في بورصة "وول ستريت"، أحدث سنة 1884.

نازداك

مؤشر أسهم أحدث لتسعير التكنولوجيا الحديثة.

التناوب الزراعي (الدورة الزراعية)

عملية تنويع وتبديل منتظم للمزروعات على أرض مقسمة إلى قطاع لا يتكرر فيها نفس المحصول لسنتين متتاليتين.

أغروبيزنس

فرع اقتصادي يتركب من ثلاث مستويات، وتندمج فيه الأنشطة الفلاحية بالأنشطة الصناعية التي تقوم بتحويل المنتجات الفلاحية إلى مواد غذائية، وبأنشطة الخدمات التي تقوم بنقل وتوزيع الإنتاج الفلاحي.

قطب تكنولوجي

مركز متخصص في إنتاج التكنولوجيا العالية والتقنيات المتطورة.

سيلكون فالي

منطقة بكاليفورنيا ترمز للتفوق الأمريكي في مجال الصناعات المتطورة وخاصة الإلكترونية.

اتفاقية التبادل الحر

اتفاقية التبادل الحر لأمريكا الشمالية بين الولايات المتحدة وكندا والمكسيك.

شركات التسويق

شركات أمريكية تعمل على ضمان تصدير المواد الأمريكية عبر بلدان ذات أنظمة ضريبية ميسرة.

تركيز رأسمالي

تجميع معظم وسائل الإنتاج في يد عدد قليل من المؤسسات، وينتج باندماج عدة مؤسسات.

تجمع صناعي

نوع من المؤسسات الضخمة ذات أنشطة متنوعة صناعية ومالية.

VII- تقويم التعلّمات

الوثيقة 1

إطار خريطة الولايات المتحدة الأمريكية



الوثيقة 2

بعض نقاط قوة الاقتصاد الأمريكي

الميزة	ملاحظات وتوضيحات
قوة قطاع الصناعات التحويلية	رغم الضعف الذي شاب تحرك هذا القطاع لسنوات بالمقارنة مع نظيره الصيني، إلا أنه استطاع منذ عام 2010 إضافة 489 ألف وظيفة جديدة. يعود ذلك إلى تحسين القدرة على التنافسية. يمكن أن يدفع ذلك القطاع إلى دعم إضافة ما بين 2 إلى 3 ملايين وظيفة.
نصيب الفرد من الناتج المحلي الإجمالي	يظل في مرتبة متقدمة عالمياً ويبلغ 47.2 ألف دولار في الوقت الراهن. الالفت للنظر هو حفاظه على وتيرة نمو مستمرة منذ عام 1960. استطاع التعافي إلى حد ما من الآثار السلبية للأزمة المالية العامية.

<p>لا تزال العديد من السيناريوهات تشير إلى أن فرص رفع إنتاج الطاقة تظل مدهشة.</p> <p>وهذا في المقابل قد يدفعها إلى خفض اعتمادها على الواردات بشكل كبير. تقدر إدارة معلومات الطاقة الأمريكية انخفاض واردات الطاقة من 24% حاليا إلى 17% عام 2035.</p> <p>ستساهم تلك الطفرة في دعم خلق وظائف جديدة.</p> <p>تشير التوقعات إلى تحول الولايات المتحدة إلى مصدر صاف للغاز المسال عام 2016.</p>	<p>طفرة الطاقة المتوقعة</p>
---	-----------------------------

الوثيقة 3

<p>« إن الحساب الجاري لأي اقتصاد يتألف من الفارق بين معدل الاستثمار ومعدل الادخار، في عام 2007 كان معدل الادخار لدى الولايات المتحدة 14.6% من الناتج المحلي الإجمالي، ولكن معدل الاستثمار لديها بلغ 6، الأمر الذي أدى إلى توليد عجز في الحساب الجاري...</p> <p>منذ عام 2007 ضاقت فجوة العجز الجاري في الولايات المتحدة، ولكن ليس بسبب ارتفاع معدل الادخار فما حدث هو أن العجز الخارجي تقلص بسبب انهيار النشاط الاستثماري، في حين هبط معدل الادخار الإجمالي في أميركا إلى ما دون مستوى 1396 من الناتج المحلي الإجمالي، بسبب تدهور الموارد المالية الحكومية...</p> <p>لقد أجلت الشركات الأمريكية الإنفاق الرأسمالي المطلوب بشدة، ومع تدهور حالة المطارات والجسور الأمريكية وفقا لمعايير الدول المتقدمة، فإن الاستثمار في البنية الأساسية بات يشكل أهمية بالغة أيضا.</p> <p>ومن المرجح في واقع الأمر أن يؤدي انتعاش النمو إلى عجز أكبر في الحساب الجاري " حتى لو تحسن معدل الادخار وأصبح إنتاج الطاقة المحلي كافيا للحد من استيراد النفط، والغاز. »</p>
--

المطلوب

- 1- وطن (ي) على الخريطة (الوثيقة 1) المعطيات الصناعية الواردة في المفتاح، مع تحديد عنوان مناسب لها.
- 2 أبرز (ي) من خلال الخريطة بعد توطينها، تجليات القوة الصناعية الأمريكية.
- 3- استخلص (ي) من خلال الوثيقة 2 معالم القوة الاقتصادية الأمريكية.
- 4- فسر (ي) قوة الفلاحة الأمريكية اعتمادا على مكتسباتك المعرفية حول الموضوع.
- 5- استخرج (ي) انطلاقا من الوثيقة 3 التحديات التي تعترض الولايات المتحدة الأمريكية.
- 6- اعتمادا على تعلماتك المعرفية، اكتب (ي) فقرة مركزة ترصد (ين) فيها المشاكل التي تواجه قطاعي الفلاحة والصناعة بالولايات المتحدة الأمريكية.