



الاجتماعيات - الثانية إعدادي

درس الجغرافيا 7 : سكان المغرب (دراسة ديموغرافية)

الأستاذ: العلمي المرابطي

الفهرس

I- أهداف التعلم

II- تقديم

III- دينامية الساكنة المغربية

1-3 / الأنشطة

2-3 / ملخص الدرس

IV- البنية العمرية وتوزيع السكان

1-4 / الأنشطة

2-4 / ملخص الدرس

V- خاتمة

VI- مصطلحات ومفاهيم

VII- تقويم التعلّات

I- أهداف التعلم

1. وصف تطور التزايد الطبيعي والبنية العمرية في المغرب وتفسيرهما.
2. استخلاص انعكاسات هذا التطور على الأوضاع الاجتماعية للسكان.
3. تعرف ظاهرة الهجرة ونتائجها الإيجابية والسلبية.
4. الوعي بالمشاكل التي يساهم الوضع الديموغرافي بالمغرب في تفاقمها، واقتراح حلول لها.
5. ترسيخ مهارة قراءة هرم أعمار السكان.

II- تقديم

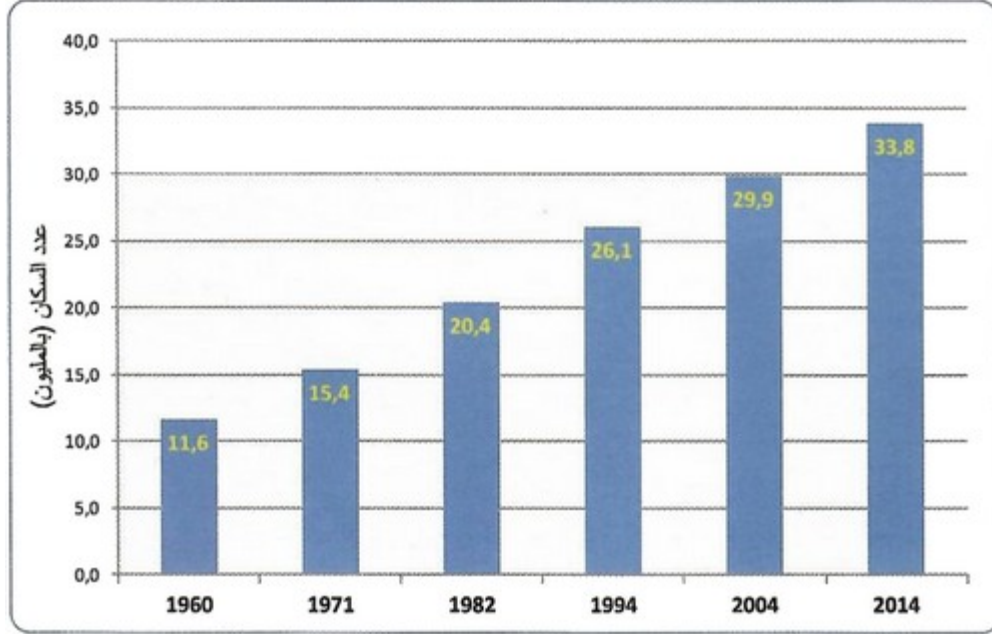
- يتميز المغرب بخصوصيات ديمغرافية يطبعها النمو السريع، والتوزيع المتباين.
- فما هي السمات التي تميز ساكنته من الناحية الديمغرافية ؟

- وما انعكاساتها على الوضع الديمغرافي بالمغرب ؟

III- دينامية الساكنة المغربية

3-1/ الأنشطة

الوثيقة 1 : مبيان تطور عدد الساكنة المغربية بين 1960 و 2014 (مليون نسمة)



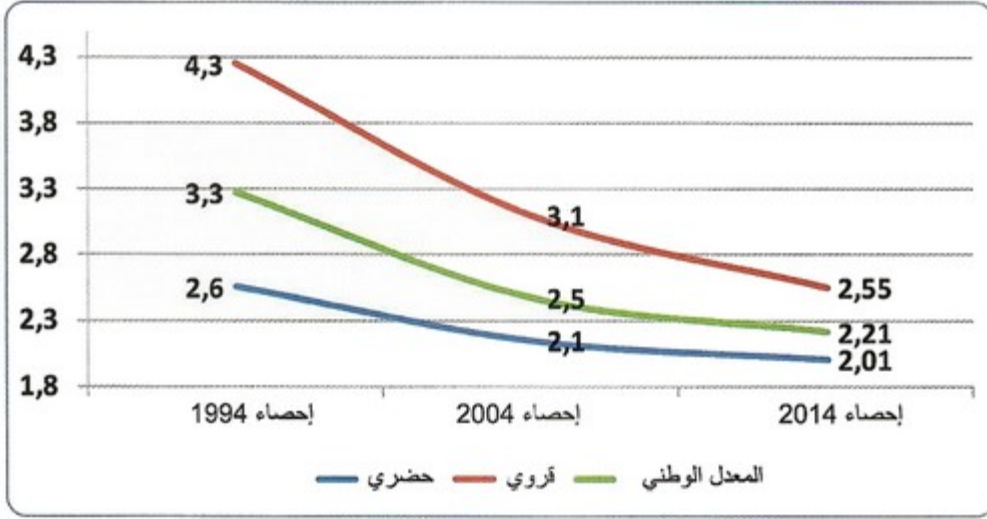
1. أصف مبيان تطور الساكنة المغربية.
2. أحسب نمو الساكنة المغربية في الفترة بين 1960 و 2014.
3. أحدد زمنيا الفترة التي عرفت أكبر زيادة للساكنة المغربية.

الوثيقة 2 : جدول تطور نسب الولادات والوفيات والزيادة الطبيعية

السنوات	الولادات ‰	الوفيات ‰	الزيادة الطبيعية ‰
1982م	40.2	12.6	27.6
1994م	24.2	6.7	17.5
2004م	20.6	5.8	14.8
2013م	18.5	5.1	13.4

1. أحدد موضوع الجدول.
2. أصف تطور نسبة المواليد والوفيات والزيادة الطبيعية.
3. استخرج العامل المفسر لدينامية الساكنة المغربية.

الوثيقة 3 : مبيان تطور معدل الخصوبة (متوسط عدد الأطفال لكل امرأة)



1. أحدد موضوع المبيان.
2. أصف تطور معدل الخصوبة خلال الفترة الفاصلة بين 1994 و2014م.
3. أميز في تطور هذه النسبة بين الوسطين الحضري والقروي.
4. أربط بين معطيات المبيان والجدول السابق لأفسر تطور الزيادة الطبيعية.

الوثيقة 4 : نص

إِنَّ النُّزُوحَ القَرَوِيَّ نَحْوَ المَدْنِ مَا فَتِيَ يَأْخُذُ حَجْمًا كَبِيرًا
تَرَامِنًا مَعَ الكَوَارِثِ الطَّبِيعِيَّةِ خَاصَّةً الجَفَافِ [...] وَيَجِدُ
النُّزُوحَ القَرَوِيَّ المَكْتَفُ نَحْوَ المَدْنِ تَفْسِيرَهُ الأَسَاسِيَّ فِي مَا
هُوَ عَلَيهِ العَالَمُ القَرَوِيُّ مِنْ تَخَلُّفٍ اِقْتِصَادِيٍّ، يُتَرَجِّمُهُ تَكَاثُرُ
القَرَوِيِّينَ بَدُونِ أَرْضٍ وَبَدُونِ عَمَلٍ، خَاصَّةً الشَّبَابَ مِنْهُمُ.
انجال الجغرافي والمجتمع المغربي عدد 7 - 2002 - الصفحات 55 و57 و58

1. أستخرج من النص أسباب الهجرة الداخلية.

الوثيقة 5 : توزيع السكان المغاربة المقيمين في الخارج سنة 2012

الأعداد	مجموعات الدول
3.058.419	الدول الأوروبية
1.146.652	(ضمنها فرنسا)
198.516	الدول العربية
87.918	الدول الأمريكية
9.366	دول إفريقيا جنوب الصحراء
3.354.219	المجموع

1. أستخرج من الجدول الدول الأكثر استقطابا للمهاجرين المغاربة.
2. أحسب نسبة السكان المغاربة المقيمين في فرنسا إلى مجموع السكان المغاربة المقيمين في الخارج سنة 2012، وأفسر هذه النسبة.

2-3/ ملخص الدرس

ينمو سكان المغرب بشكل سريع

يعرف سكان المغرب منذ مطلع القرن 20 نموا ديمغرافيا سريعا يرجع إلى ارتفاع نسبة الولادات وانخفاض نسبة الوفيات، حيث يبلغ عدد السكان حاليا أكثر من 30 مليون نسمة، مع تسجيل أن سكان المدن يتزايدون على حساب عدد سكان البوادي، كما بدأ المغرب يعرف انخفاضا في نسبة الولادات ونسبة الوفيات، وتقف وراء هذه الظاهرة أسباب متداخلة، كتقدم مستوى عيش السكان، تمدرس الفتيات، تراجع سن الزواج وسياسة تنظيم النسل بالإضافة إلى الأزمة الاقتصادية.

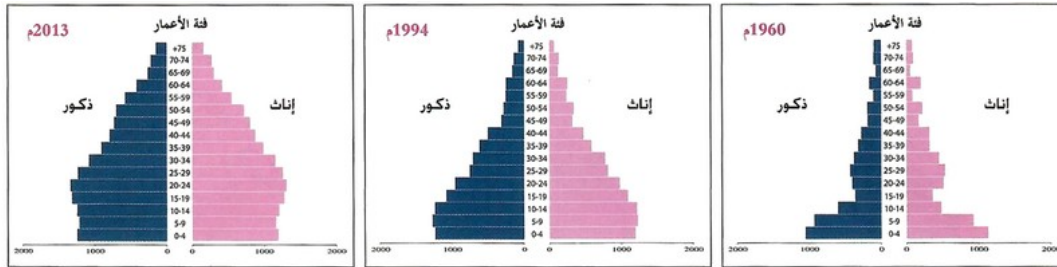
أسباب هجرات السكان

الهجرة السكانية هي انتقال السكان من المكان الأصلي إلى مكان الإقامة الجديد، والهجرة بالمغرب نوعان: هجرة داخلية من البوادي نحو المدن، وهجرة خارجية، ويرجع ذلك لكثافة الهجرة القروية نحو المدن، وتتنوع أسباب هذه الهجرات بين عوامل طبيعية كظاهرة الجفاف، وأخرى اقتصادية كقلة فرص الشغل وضعف التجهيزات الأساسية بالبوادي، بالإضافة إلى الهجرة لطلب العلم والمعرفة، وقد عرف توزيع السكان بين البوادي والمدن تحولا كبيرا منذ مطلع القرن 20 حيث تزايدت نسبة سكان المدن.

IV- البنية العمرية وتوزيع السكان

1-4/ الأنشطة

الوثيقة 1 : أهرامات الساكنة المغربية (ألف نسمة)



1. أصف شكل كل هرم على حدة.
 2. أحدد خاصية البنية العمرية والجنسية لكل هرم على حدة.
 3. أبرز الفئة العمرية السائدة في الساكنة المغربية.
- الوثيقة 2 : جدول تطور سكان المدن والأرياف (ألف نسمة)**

المجموع	سكان الأرياف		سكان المدن		السنوات
	%	العدد	%	العدد	
11626	70,85	8237	29,15	3389	1960
15379	64,82	9969	35,18	5410	1971
20419	57,25	11689	42,75	8730	1982
26074	48,58	12666	51,42	13408	1994
29891	44,93	13428	55,07	16463	2004
33848	39,64	13416	60,36	20432	2014

1. أحدد موضوع الجدول.
2. أقرن بين نسبة سكان المدن في سنة 1960 وسنة 2014.
3. أقرن بين نسبة سكان الأرياف في سنة 1960 وسنة 2014.

4-2/ ملخص الدرس

تتميز البنية العمرية بالفتوة

ينعكس ارتفاع نسبة الولادات وانخفاض نسبة الوفيات على البنية العمرية لسكان المغرب، حيث أدت سرعة تزايد السكان إلى وجود بنية سكانية فتية تتمثل في ارتفاع نسبة الأطفال والشباب وتقلص نسبة الشيوخ سواء بالنسبة للذكور أو الإناث.

يتوزع السكان بشكل متفاوت

تختلف الكثافة السكانية بالمغرب من منطقة لأخرى حسب العوامل الطبيعية والاقتصادية، كتنوع التضاريس، والتربة، والمناخ، وتوفر فرص الشغل، ويبلغ متوسط الكثافة 42 نسمة في الكلومتر²، وعرف توزيع السكان بين البوادي والمدن تحولا كبيرا منذ مطلع القرن 20 حيث تزايدت نسبة سكان المدن وتقلصت نسبة القرويين بسبب عامل الهجرة إلى جانب تزايد كبير في عدد الحضريين واتساع ظاهرة التمدين.

V- خاتمة

مازال المغرب يعاني من سرعة النمو، وكثافة الهجرة القروية نحو المدن، رغم محاولات الدولة الإصلاحية مما سيؤثر بشكل سلبي على الأنشطة الاقتصادية.

VI- مصطلحات ومفاهيم

الديموغرافية

علم يهتم بدراسة السكان من حيث عددهم وتطورهم وبنيتهم وحركاتهم .

الخصوبة الكلية

متوسط عدد المواليد الأحياء لكل امرأة في نهاية حياتها الإنجابية.

معدل الخصوبة

النسبة بين عدد المواليد الأحياء في السنة إلى إجمالي عدد الإناث في سن الحمل (من 15 إلى 49 سنة).

الهجرة

انتقال السكان من أرض تدعى المكان الأصل أو مكان المغادرة إلى أرض أخرى تدعى مكان الوصول مع ما يتبع ذلك من تغيير في محل الإقامة.

VII- تقويم التعليمات

إنَّ العِيشَ فِي المَدِينَةِ يَعْنِي قَبْلَ كُلِّ شَيْءٍ، بِالنَّسْبَةِ لِلسُّكَّانِ، العِيشَ فِي مَجَالٍ يَتَوَفَّرُ عَلَى التَّجْهِيزَاتِ الأَسَاسِيَّةِ : طُرُقٌ مُعَبَّدَةٌ وَأَرْصِفَةٌ وَشَبَكَاتُ التَّطْهِيرِ وَإِنَارَةٌ [...] إِنَّهُ يَعْنِي كَذَلِكَ الأَسْتِيفَادَةَ مِنْ مُخْتَلِفِ العِذْمَاتِ وَفَضَائِلِ التَّرْفِيهِ وَالتَّجَوُّلِ وَالمَحَلَّاتِ الشَّجَارِيَّةِ [...].
 إنَّ نَمَطَ العِيشِ الحَضَرِيِّ يَبْدُو كَنَمُودَجٍ يَجِبُ أَنْ يُتَّاحَ لِلمَجْمُوعِ.
 F. NAVEZ Bouchanine : "Habiter La ville marocaine" - Gaétan Morin - l'Harmattan

1. أستخرج من النص بعض دوافع الهجرة القروية.
2. أقترح حلولاً لهذه الظاهرة.
3. أرصد بعض الحقوق التي ينبغي أن يتمتع بها سكان البادية.