



## الاجتماعيات - الثالثة إعدادي

درس الجغرافيا 1 : المغرب العربي (عناصر الوحدة والتنوع)

الأستاذ: العلمي المرابطي

### الفهرس

I- أهداف التعلم

II- تقديم

III- عناصر الوحدة بين بلدان المغرب العربي

1-3 / الأنشطة

2-3 / ملخص الدرس

IV- عناصر التنوع بين بلدان المغرب العربي

1-4 / الأنشطة

2-4 / ملخص الدرس

V- خاتمة

VI- مصطلحات ومفاهيم

VII- تقويم التعلمات

I- أهداف التعلم

1. تعرف المغرب العربي كوحدة جغرافية ذات مؤهلات طبيعية وبشرية مشتركة.

2. اكتشاف عناصر الوحدة بين بلدان المغرب العربي.

3. استخلاص عناصر التنوع بين بلدان المغرب العربي.

4. إدراك قيمة عناصر الوحدة والتنوع في قيام كتل جهوي مغاربي.

II- تقديم

تطمح دول المغرب العربي حاليا إلى خلق كتل إقليمي بالاعتماد على مؤهلاتها المشتركة والمتنوعة.

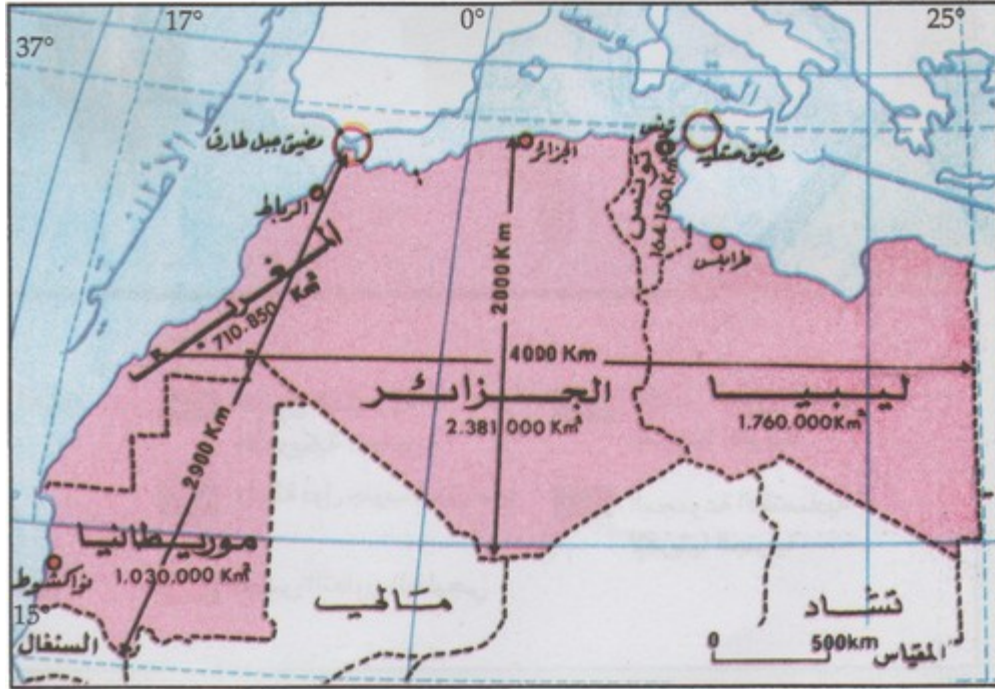
• فما هي أهم عناصر الوحدة ؟

• وأين تتجلى مظاهر التنوع ؟

### III- عناصر الوحدة بين بلدان المغرب العربي

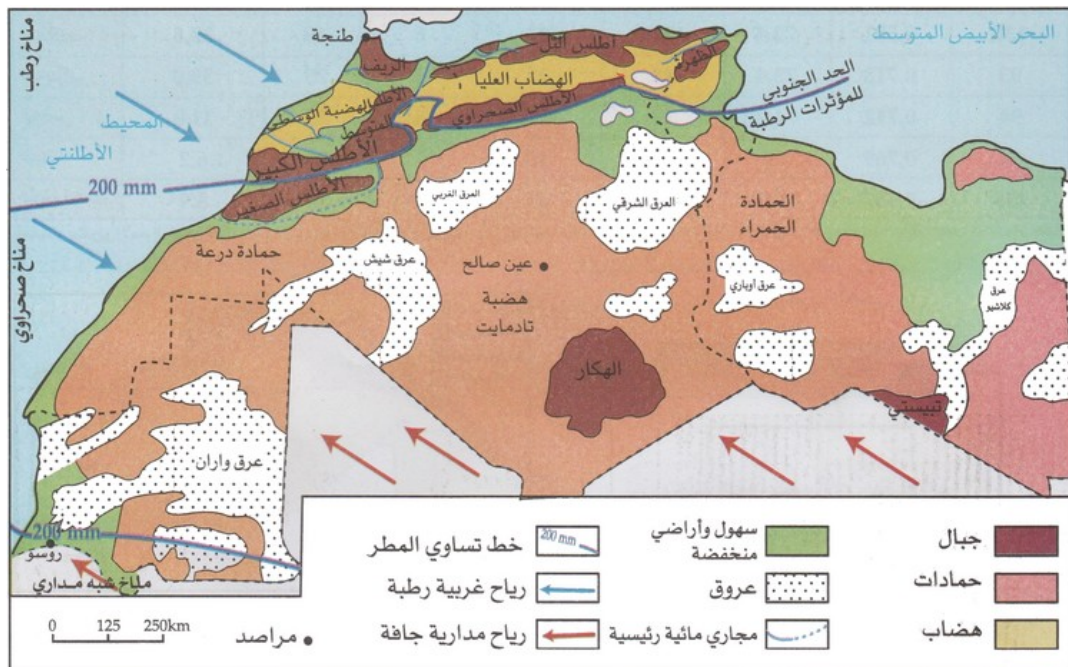
#### 1-3/ الأنشطة

#### الوثيقة 1 : المغرب العربي (الموقع والأبعاد الجغرافية)



1. أوطن موقع المغرب العربي حسب الإحداثيات الجغرافية.
2. أوطن موقع المغرب العربي حسب الكيانات الجغرافية المجاورة.
3. أسمى بلدان المغرب العربي وأحدد موقع ومساحة كل بلد على حدة.
4. أستخرج الخصائص العامة للمغرب العربي من حيث الأبعاد والمساحة.

#### الوثيقة 2 : المغرب العربي (خريطة طبيعية)



1. أحد أهم الوحدات التضاريسية في المغرب العربي وأصنف مميزاتها.

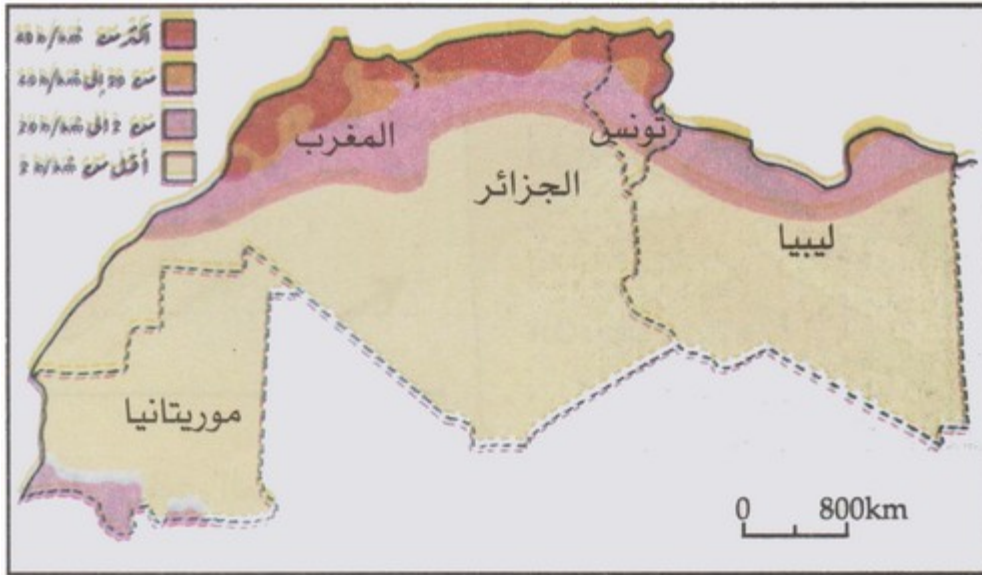
2. أحد طبيعة المناخ الذي يميز منطقة المغرب العربي.

### الوثيقة 3 : بعض الخصائص الديمغرافية لبلدان المغرب العربي (2014)

البلدان	عدد السكان بمليون hab 2014	نسبة الولادات (%)	نسبة الوفيات (%)	نسبة التكاثر الطبيعي (%)	نسبة وفيات الأطفال (%)	معدل أمد الحياة (سنة)	مؤشر التنمية البشرية IDH	
							القيمة	الرتبة عالميا
المغرب	33,8	19	6	13	30	72,4	0,591	130
الجزائر	39,0	25	4	21	24	73,4	0,713	93
تونس	11,0	19	6	13	18	74,7	0,712	94
ليبيا	6,2	23	4	19	14	75	0,769	64
موريتانيا	3,9	34	10	24	74	58,9	0,467	155

1. أحد الخصائص الديمغرافية لسكان بلدان المغرب العربي.

### الوثيقة 4 : توزيع السكان بالمغرب العربي



1. أصف توزيع سكان المغرب العربي.

2. أستخلص بعض القواسم البشرية المشتركة بين بلدان المغرب العربي.

## 2-3 / ملخص الدرس

### عناصر الوحدة الطبيعية

#### الموقع الجغرافي :

تقع بلدان المغرب العربي شمال غرب القارة الإفريقية، وحسب الإحداثيات الجغرافية فهي ما تمتد بين خطي العرض  $15^\circ$  و  $37^\circ$  شمال خط الاستواء، وخطي الطول  $25^\circ$  شرقا و  $17^\circ$  غربا، وهي منطقة جغرافية تضم خمس دول (ليبيا، تونس، الجزائر، المغرب، موريتانيا)، وتبلغ مساحتها 6 ملايين كم<sup>2</sup>، أما الموقع بالنسبة للكيانات الجغرافية فتحد شمالا بالبحر الأبيض المتوسط، وغربا بالمحيط الأطلسي، وشرقا بجمهورية مصر، وجنوبا بمالي والتشاد والنيجر والسينغال، هذا الموقع يجعلها قريبة من القارة الأوروبية بحوالي 14 كلم عبر مضيق جبل طارق، أي أنها تمثل منطقة عبور بين إفريقيا وأوروبا، كما أن هذا الموقع يجعل هذا التكتل يطل على واجهتين بحريتين هما البحر الأبيض المتوسط والمحيط الأطلسي، حيث تلعب هذه البلدان دورا مهما في الملاحة البحرية.

## الأشكال التضاريسية :

تغلب الهضاب على تضاريس المغرب العربي، في حين تتركز الجبال في الشمال، أما السهول فتمتد على طول السواحل المغربية.

## المناخ :

يغلب المناخ الجاف وشبه الجاف على معظم منطقة المغرب العربي، باستثناء المناطق الساحلية الشمالية حيث يسود المناخ المتوسطي والجنوب الموريتاني حيث يسود المناخ شبه المداري.

## التركيب البنيوي :

تتشابه بنية بلدان المغرب العربي الجيولوجية، حيث تكونت خلال الزمن الجيولوجي الثاني والثالث، وتشكل المنطقة المغربية من ثلاث مجالات بنيوية كبرى تمتد بشكل طولي وهي: المجال الصحراوي يغطي معظم المناطق الوسطى والجنوبية، ويشغل المجال الأطلسي والمجال الريفية-التلي الجزء الشمالي، وتشكل هذه البنيات من طبقات رسوبية وأخرى إلتوائية.

## عناصر الوحدة البشرية

يتشكل معظم سكان المغرب العربي من عناصر أمازيغية وعربية وزنجية اختلطوا عبر العصور وشكلوا أمة تجمعهم وحدة الدين واللغة والتاريخ المشترك، وترتفع الكثافات السكانية على السواحل وقرب المجاري المائية حيث تكثر التساقطات، في حين تقل الكثافة في المناطق الداخلية حيث يطغى المناخ الجاف، وتختلف نسبة النمو السكاني بين الأقطار المغربية لتتراوح ما بين 11% و 25%، وتغلب الفئات الشابة على البنية العمرية للمغرب العربي.

## IV- عناصر التنوع بين بلدان المغرب العربي

### 1-4/ الأنشطة

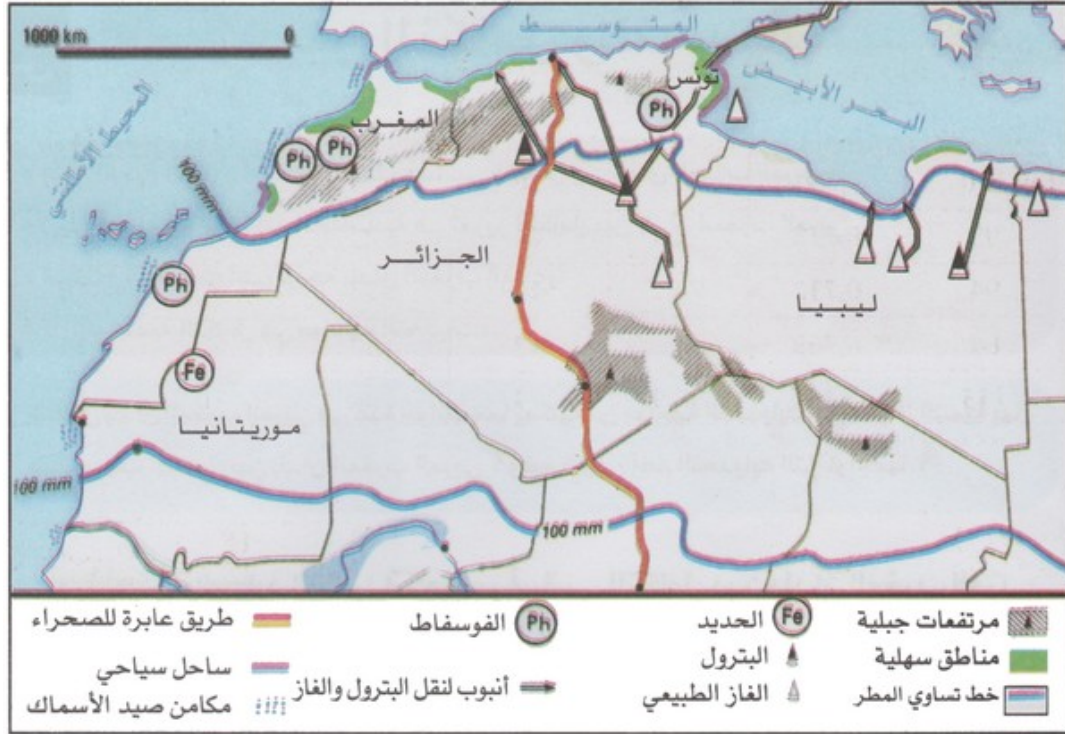
### الوثيقة 1 : بعض الموارد الاقتصادية لبلدان المغرب العربي

المورد الاقتصادي	بلدان المغرب العربي	المغرب	الجزائر	تونس	ليبيا	موريتانيا
القمح (مليون £)	2,100	4,500	1,653	0,110	-	-
البتروول (مليون £)	-	77,600	4,100	77,100	-	-
الغاز الطبيعي (مليار m <sup>3</sup> )	-	81,400	-	15,300	-	-
الانتاج الاجمالي للطاقة مليون Tep	0,700	174,306	-	103,605	0,018	-
الفوسفاط (مليون £)	24,000	1,800	7,000	-	-	-
الحديد (مليون £)	0,030	2,050	0,100	-	11,000	-

1. أسمى الموارد الاقتصادية لكل بلد من بلدان المغرب العربي.

2. أقرن توزيع هذه الموارد بين بلدان المغرب العربي.

### الوثيقة 2 : بعض الموارد الاقتصادية لبلدان المغرب العربي



1. أسمى الموارد الاقتصادية لكل بلد من بلدان المغرب العربي.
2. أقرن توزيع هذه الموارد بين بلدان المغرب العربي.
3. أستخلص أهمية هذا التنوع في توفير ظروف التكامل الاقتصادي بين بلدان المغرب العربي.

## 2-4/ ملخص الدرس

### تفاوت توزيع الموارد الطبيعية بين دول المنطقة

توفر الطبيعة لبلدان المغرب العربي موارد هامة ومتنوعة تتميز بعدم التكافؤ من حيث التوزيع رغم توفرها على موارد اقتصادية مهمة متمثلة في الأراضي الزراعية الشاسعة، والثروة المعدنية والطاقية، بحيث تنوزع على الشكل التالي بين دول المنطقة، نجد أهم الثروات البترولية والغازية تتركز في الجزائر وليبيا، والفوسفات في المغرب وتونس، والحديد في موريطانيا.

### أهمية تحقيق لتكامل الاقتصادي بين بلدان المنطقة

تنوع الأنشطة الاقتصادية من بلد مغاربي إلى آخر تبعا للسياسات الاقتصادية المعتمدة في كل بلد، بحيث نجد الأنشطة الاقتصادية في الجزائر وليبيا تتمحور أساسا حول البترول والغاز الطبيعي، في حين نجد بلدانا أخرى تسعى إلى تنوع اقتصادها كالمغرب وتونس، ويساهم هذا التفاوت في توزيع الموارد الاقتصادية بين دول المغرب العربي بإمكانية تحقيق التكامل بينهم عن طريق تبادل هذه الموارد المتنوعة والمختلفة فيما بين هذه الدول.

## ٧- خاتمة

يتميز المغرب العربي بتشابه الظروف الطبيعية والبشرية، وتنوع الإمكانيات الاقتصادية، مما يسمح بالتعاون والتكامل الاقتصادي بين البلدان الخمسة.

## ٧- مصطلحات ومفاهيم

### التكامل الاقتصادي

أن يزود كل بلد آخر بما يحتآإ إليه من مواد متنوعة ومختلفة في إطار التبادل بينهما.

## VII- تقويم التعلّمات

1. أنجز جدولاً أعدد فيه جوانب الوحدة والتنوع بين بلدان المغرب العربي.
2. أرسم إطار خريطة المغرب العربي وأوطن عليه المجالات الطبيعية الكبرى.
3. أكتب فقرة أبين فيها قيمة إنشاء وحدة مغاربية.