



## الاجتماعيات - الأولى إعدادي

درس الجغرافيا 2 : التدرّب على رسم الإحداثيات وتحديد الموقع

الأستاذ: العلمي المرابطي

### الفهرس

I- أهداف التعلم

II- تقديم

III- مفهوم الإحداثيات ومكوناتها

1-3 / الأنشطة

2-3 / ملخص الدرس

IV- قياس الإحداثيات وتحديدّها

1-4 / الأنشطة

2-4 / ملخص الدرس

V- تحديد الموقع اعتمادا على الإحداثيات

1-5 / الأنشطة

2-5 / ملخص الدرس

VI- خاتمة

VII- مصطلحات ومفاهيم

IX- تقويم التعلّمات

---

I- أهداف التعلم

1. اكتشاف مفهوم الإحداثيات الجغرافية ودورها في تحديد الموقع.
2. اكتشاف قاعدة قياس درجات خطوط الطول وخطوط العرض والتدرّب على تطبيقها.
3. التدرّب على رسم الإحداثيات الجغرافية.
4. التدرّب على تحديد موقع نقطة معينة على سطح الأرض.
5. التحسيس بوظيفة الإحداثيات الجغرافية بالنسبة للإنسان.

## II- تقديم

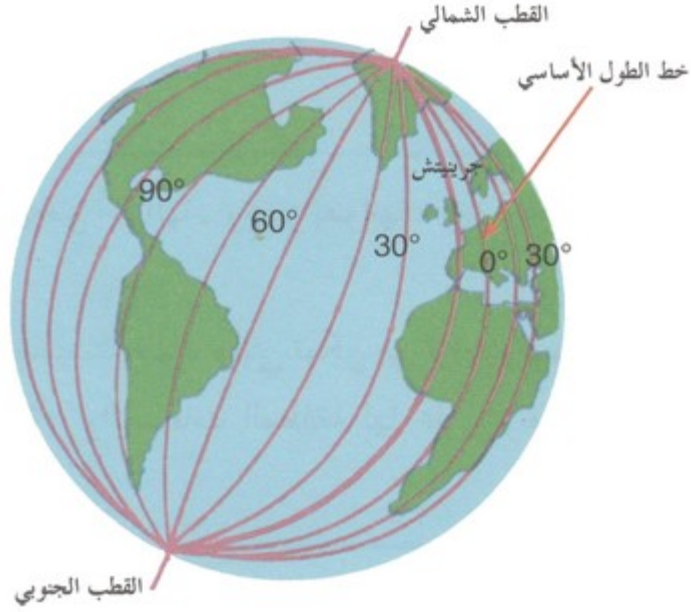
تعتبر الإحداثيات الجغرافية وسيلة لتحديد الموقع على سطح الأرض.

- فما الإحداثيات الجغرافية ؟
- وكيف تحدد درجاتها ؟
- وكيف نستخدمها لتحديد الموقع ؟

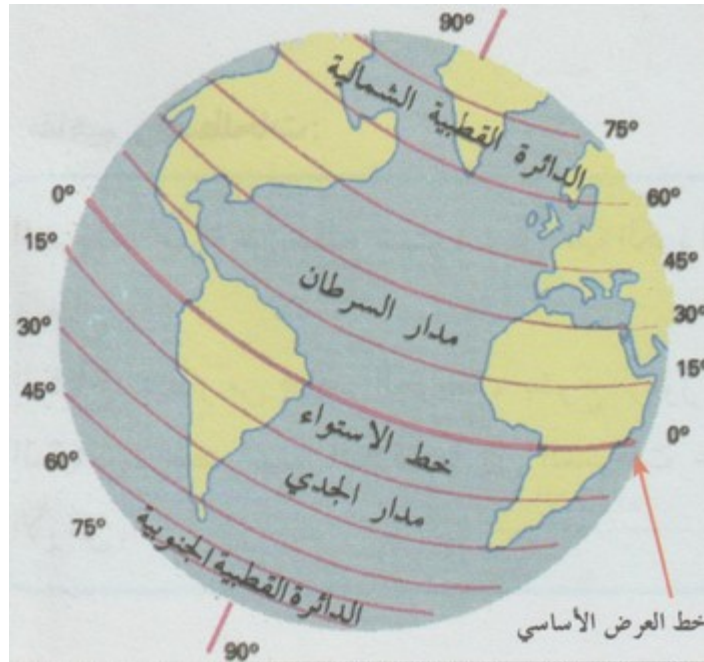
## III- مفهوم الإحداثيات ومكوناتها

### 1-3/ الأنشطة

#### الوثيقة 1 : خطوط الطول



#### الوثيقة 2 : خطوط العرض



1. أتعرف خط الطول الأساسي وأسميه وأبين درجته.
2. أتعرف خط العرض الأساسي وأسميه وأبين درجته.
3. أحدد عدد خطوط العرض شمال الخط الأساسي وجنوبه.
4. أصف خطوط الطول وخطوط العرض وأقارن بينها.

### 2-3/ ملخص الدرس

لتسهيل توطين مختلف أجزاء الأرض مكانيا وزمانيا وضع الجغرافيون عدة خطوط وهمية تعرف بالإحداثيات الجغرافية، وهي نوعان:

#### خطوط الطول

عبارة عن أنصاف دوائر وهمية متساوية تتقاطع عند القطبين، وقد اتفق العلماء على جعل خط غرينتش خطا أصليا لقياس الطول، وتمكننا خطوط الطول من تحديد المواقع وضبط التوقيت، ويبلغ عدد خطوط الطول 360 خطا، وبالتالي فإن طول مكان ما على سطح الأرض هو بعده الزاوي عن خط الطول الأصلي.

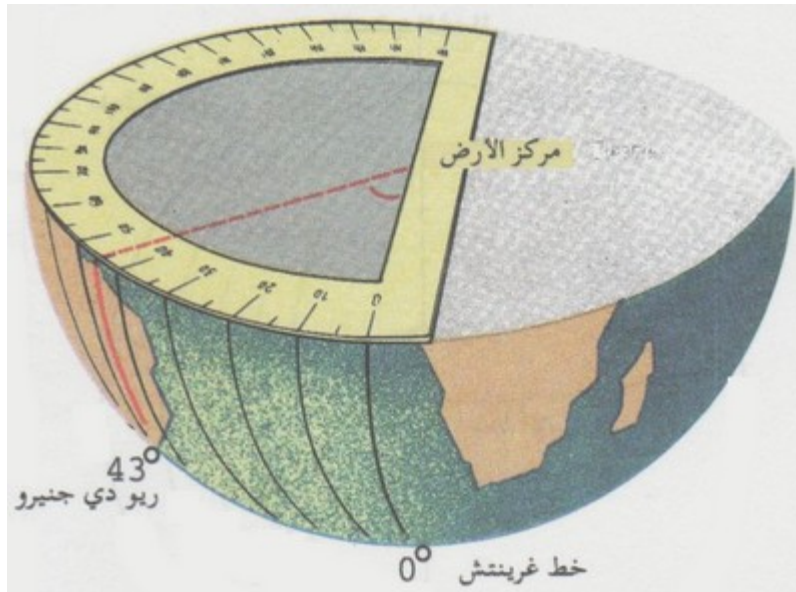
#### خطوط أو دوائر العرض

عبارة عن دوائر موازية لخط الاستواء، وهو خط يمر عند نصف المسافة بين القطبين، وتمكننا خطوط العرض من تحديد الموقع والمناخ، ويبلغ عدد خطوط العرض 180 خطا، وتقاس المسافة بين خط وخط آخر بزاوية مركزية يمر أحد ضلعيها بخط الاستواء والآخر بالنقطة المراد تحديد عرضها.

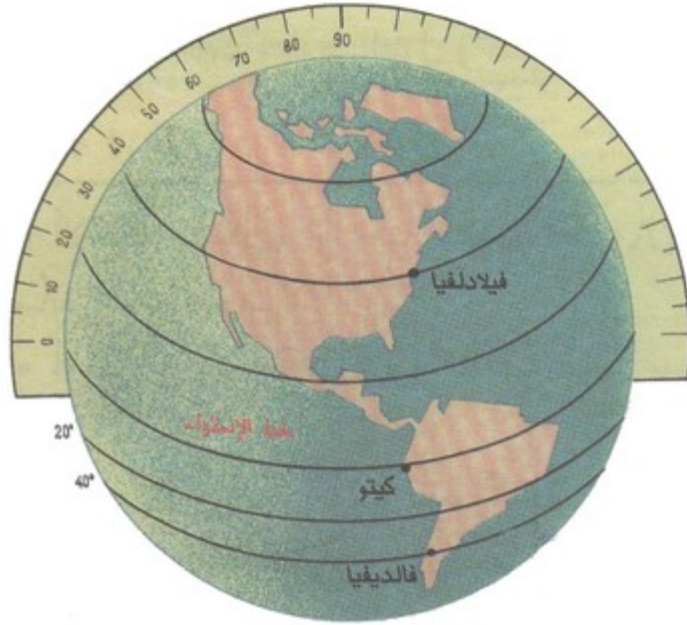
### IV- قياس الإحداثيات وتحديدتها

#### 1-4/ الأنشطة

#### الوثيقة 1 : طريقة قياس درجات الطول



#### الوثيقة 2 : طريقة قياس درجات العرض



1. أرسم الشكل في دفترتي، وأتدرب على تطبيق طريقة تحديد خطوط الطول.
2. أرسم الشكل في دفترتي، وأتدرب على تطبيق طريقة تحديد خطوط العرض.
3. أتتبع تنفيذ الخطوات الآتية لأتعلّم مهارة رسم الإحداثيات الجغرافية :

1- التحضير	2- إنجاز رسم الإحداثيات	3- تقويم إنجاز الرسم
<ul style="list-style-type: none"> <li>• أحضر ورقا ميلمتريا .</li> <li>• أحضر أقلاما .</li> <li>• أحضر مسطرة ، ممحاة . . .</li> </ul>	<ul style="list-style-type: none"> <li>• أرسم إطارا ذا مقياس 18×9 سنتمتر .</li> <li>• أحدد مقياس الخط الأفقي ، ومقياس الخط العمودي .</li> <li>• أرسم الخطوط العرضية: خط الاستواء: مدار السرطان ، مدار الجدي .</li> <li>• أرسم الخطوط 30°-60°-90° شمال وجنوب خط الاستواء وأرقمهم .</li> <li>• أرسم خط الطول الأساسي وخطوط الطول 30°-60°-90°-150°-180° غرب خط غرينيتش وشرقه وأرقمهم .</li> </ul>	<ul style="list-style-type: none"> <li>• أقارن رسمي مع رسم زميلي ، وأتعاون معه .</li> <li>• أقارن رسمي ورسم زميلي مع الرسم المنجز على السبورة ، وأصحح أخطائي .</li> <li>• أنجز رسوما مماثلة في المنزل .</li> </ul>

## 2-4 / ملخص الدرس

لمعرفة درجة طول النقطة A أربطها بخط غرينتش وبمركز الأرض، وأقوم بقياس درجتها بواسطة المنقلة، وأبرر موقع النقطة بالنسبة لخط الطول الأساسي. أما قياس درجة العرض، فيتم بوضع نقطة الدائرة المراد تعرف درجة عرضها، وأربطها بمركز خط الاستواء، وأحسب درجتها بواسطة المنقلة.

## 7- تحديد الموقع اعتمادا على الإحداثيات

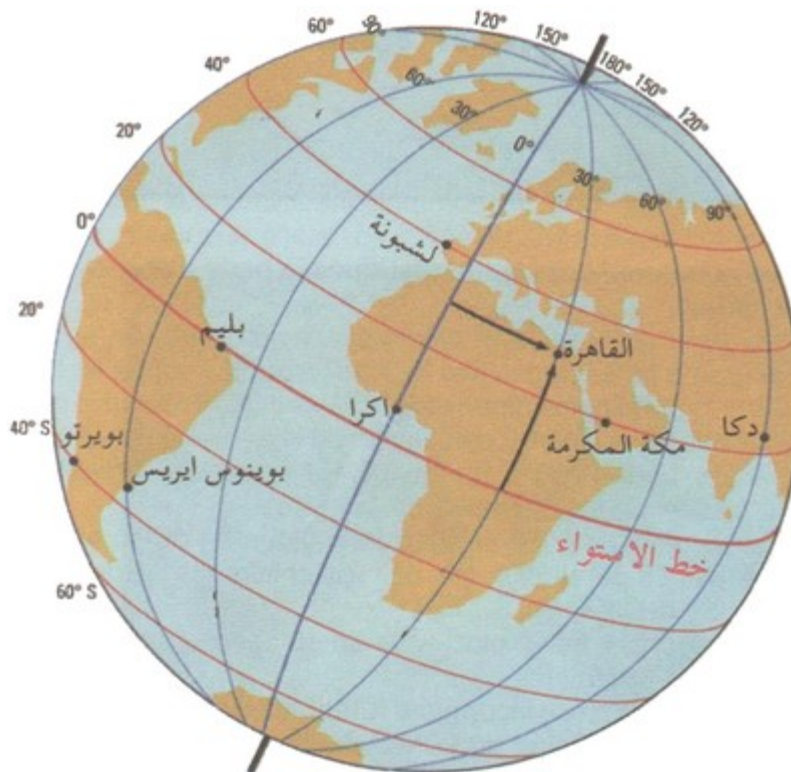
### 1-5 / الأنشطة

#### الوثيقة 1 : موقع المغرب



1. أحدد موقع المغرب بالنسبة لخطوط الطول وخطوط العرض.
2. أستخلص نصف الكرة الأرضية الذي يوجد فيه المغرب، وأعلل جوابي.

### الوثيقة 2 : إحداثيات بعض المدن



### الوثيقة 3 : خريطة بعض الإحداثيات





1. أحد إحداثيات المدن الممثلة في الشكل، وأوطن موقعها على الخريطة.
2. أقدر فائدة الإحداثيات الجغرافية.

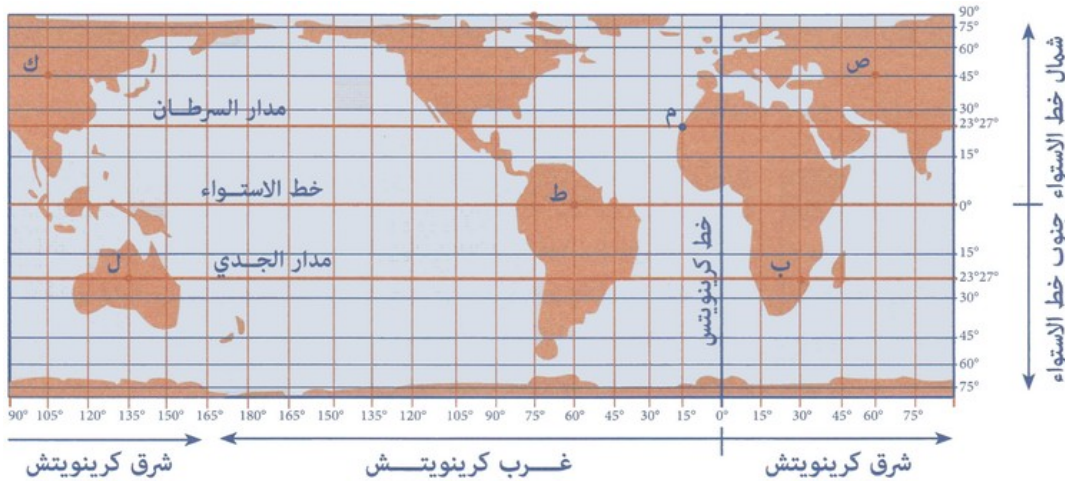
## 2-5/ ملخص الدرس

### رسم الإحداثيات الجغرافية

يتطلب التدرب على رسم الإحداثيات الجغرافية إحضار ورق مليمترى، ووضع إطار ذي مقياس، ثم نضع الخط العمودي الذي يوازي خط غرينتش، والخط الأفقي الذي يوازي خط الاستواء، ونضع خطوط العرض 30° و 60° و 90° شمال وجنوب خط الاستواء، وخطوط الطول 60° و 90° و 120° و 150° و 180° شرق وغرب خط غرينتش.

### تحديد الموقع اعتمادا على الإحداثيات

يقع المغرب بين خطي طول 1° و 17° غرب خط غرينتش، وبين خطي عرض 21° و 36° شمال خط الاستواء، وبذلك يقع المغرب في النصف الشمالي من الكرة الأرضية، ويخترقه مدار السرطان، أما القارة الإفريقية فتقع بين خطي طول 51° شرق غرينتش و 17° غربه، وبين خطي عرض 37° شمال خط الاستواء و 35° جنوبه.



## ٧- خاتمة

يتطلب وضع الإحداثيات الجغرافية تكويننا علميا دقيقا لكون ضبطها يفيد في تحديد الموقع والوقت ونوع المناخ بدقة في أي منطقة من العالم.

## ٧١- مصطلحات ومفاهيم

### خط غرينيتش

نصف دائرة وهمية، درجته 0 يقسم الأرض إلى نصف شرقي وآخر غربي.

### دائرة الاستواء

دائرة وهمية درجتها 0. تقسم الأرض إلى قسم شمالي وآخر جنوبي.

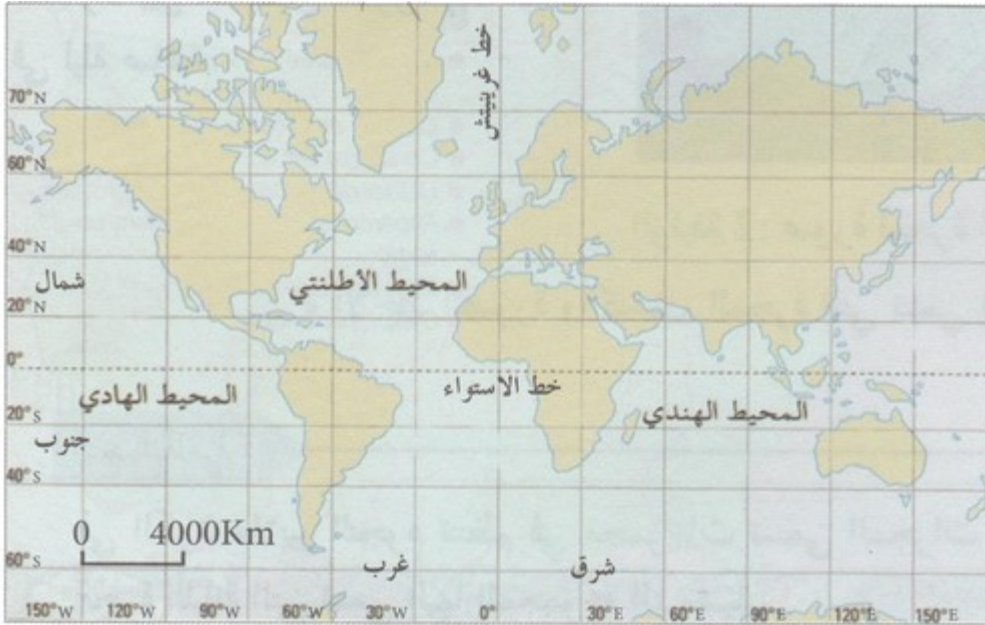
### مدار السرطان

دائرة وهمية درجتها  $23^{\circ}27'$  شمال خط الاستواء.

### مدار الجدي

دائرة وهمية درجتها  $23^{\circ}27'$  جنوب خط الاستواء.

## ١١٩- تقويم التعلّمات



1. ألون بالأحمر المناطق التي توجد شمال خط الاستواء وشرق خط غرينيتش.
2. ألون بالأصفر المناطق التي توجد جنوب خط الاستواء وغرب خط غرينيتش.