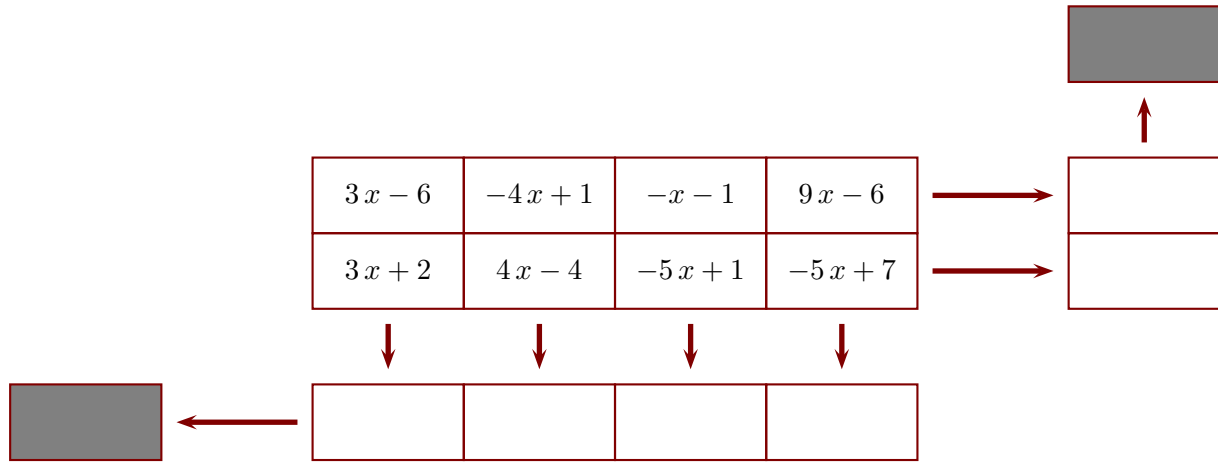


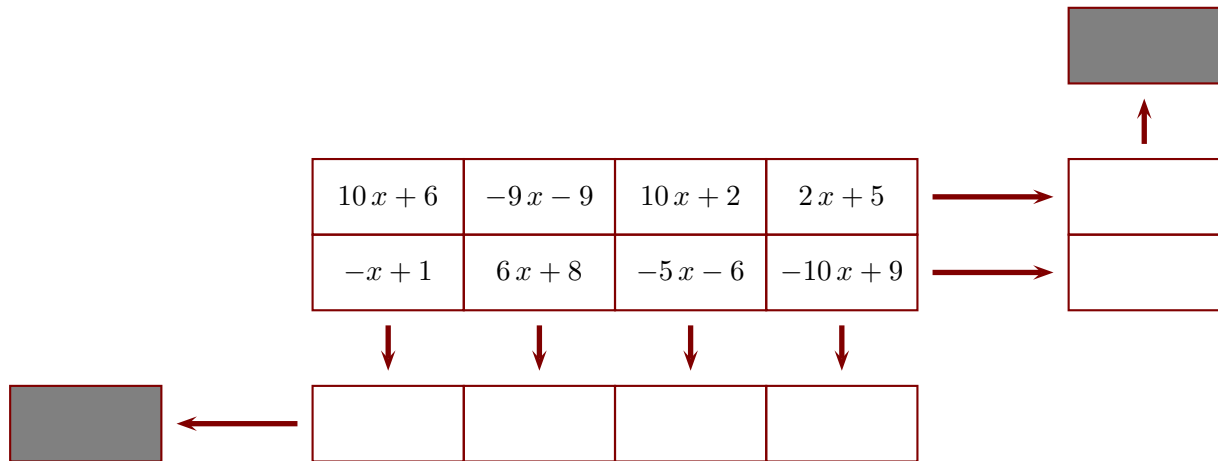
Exercice 1

Le principe est le suivant : l'extrémité de chaque flèche indique la somme de la ligne ou de la colonne correspondante. Compléter, sachant que x représente un nombre quelconque et que le contenu des deux cases grises doit être le même.



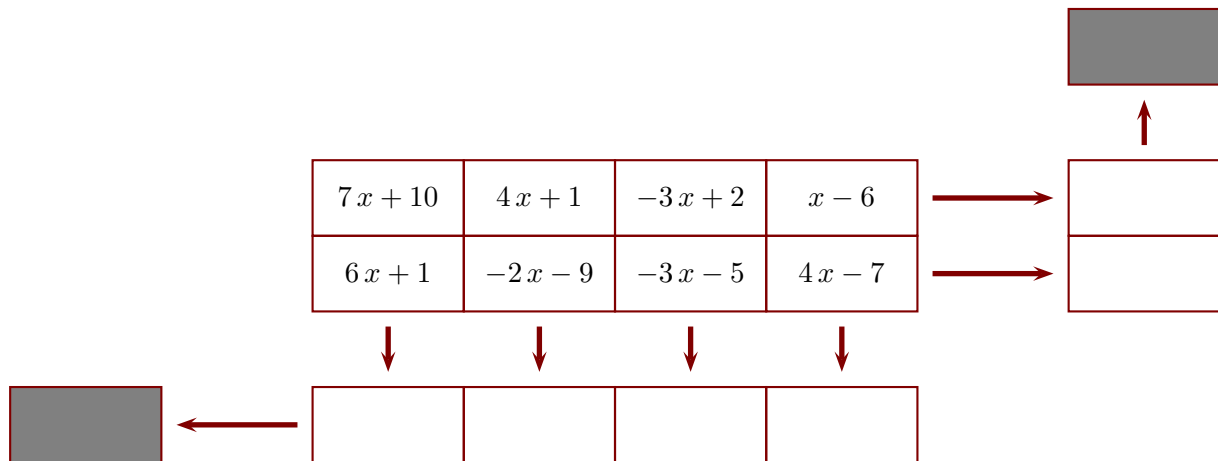
Exercice 2

Le principe est le suivant : l'extrémité de chaque flèche indique la somme de la ligne ou de la colonne correspondante. Compléter, sachant que x représente un nombre quelconque et que le contenu des deux cases grises doit être le même.



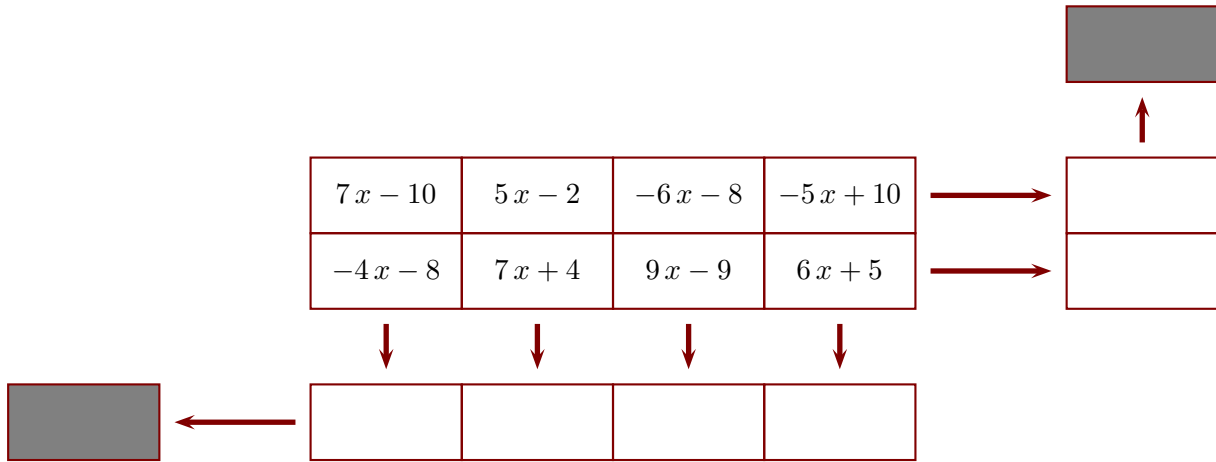
Exercice 3

Le principe est le suivant : l'extrémité de chaque flèche indique la somme de la ligne ou de la colonne correspondante. Compléter, sachant que x représente un nombre quelconque et que le contenu des deux cases grises doit être le même.



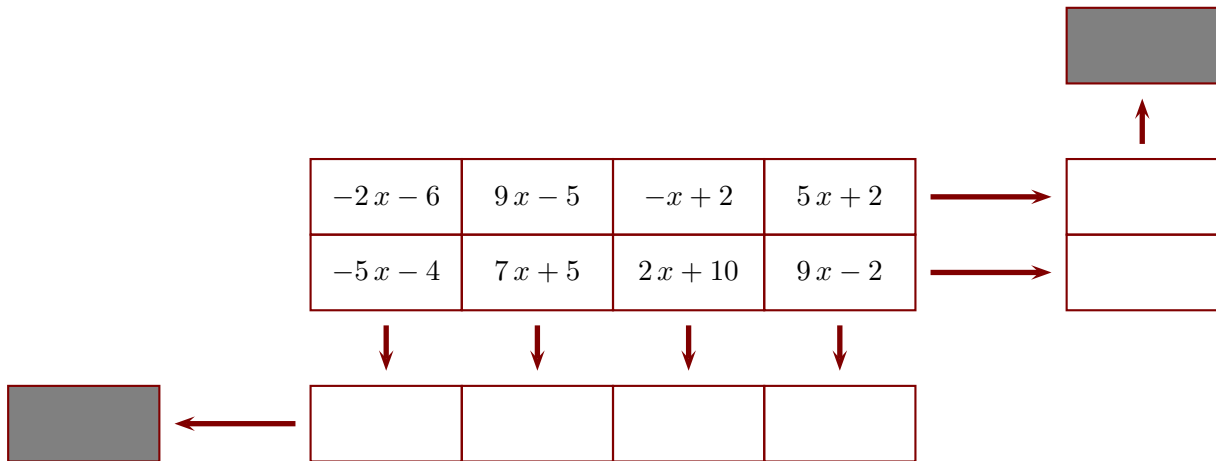
Exercice 4

Le principe est le suivant : l'extrémité de chaque flèche indique la somme de la ligne ou de la colonne correspondante. Compléter, sachant que x représente un nombre quelconque et que le contenu des deux cases grises doit être le même.



Exercice 5

Le principe est le suivant : l'extrémité de chaque flèche indique la somme de la ligne ou de la colonne correspondante. Compléter, sachant que x représente un nombre quelconque et que le contenu des deux cases grises doit être le même.



Exercice 6

Le principe est le suivant : l'extrémité de chaque flèche indique la somme de la ligne ou de la colonne correspondante. Compléter, sachant que x représente un nombre quelconque et que le contenu des deux cases grises doit être le même.

