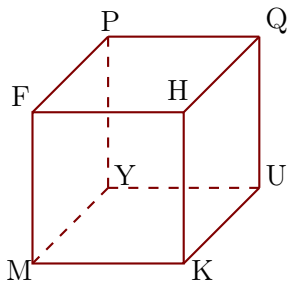


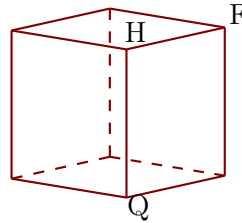
Exercice 1

Les figures 1 et 2 représentent le même cube FHKMPQUY.

1



2

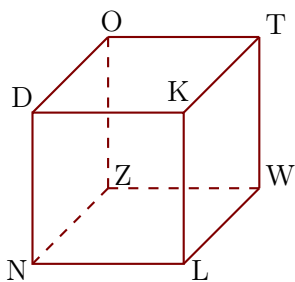


- 1. Compléter les sommets manquants de la figure 2.
- 2. Donner toutes les arêtes perpendiculaires à $[YU]$.
- 3. Donner toutes les arêtes parallèles à $[KH]$.

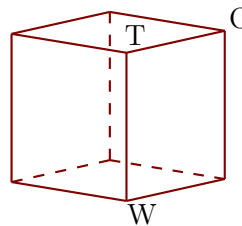
Exercice 2

Les figures 1 et 2 représentent le même cube DKLNOTWZ.

1



2

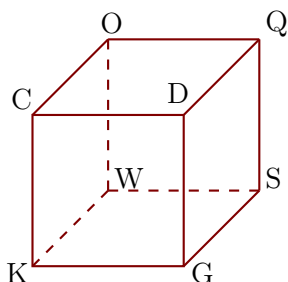


- 1. Compléter les sommets manquants de la figure 2.
- 2. Donner toutes les arêtes perpendiculaires à $[WZ]$.
- 3. Donner toutes les arêtes parallèles à $[ZN]$.

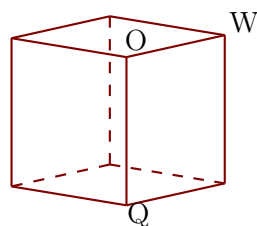
Exercice 3

Les figures 1 et 2 représentent le même cube CDGKOQSW.

1



2



- 1. Compléter les sommets manquants de la figure 2.
- 2. Donner toutes les arêtes perpendiculaires à $[OW]$.
- 3. Donner toutes les arêtes parallèles à $[KW]$.