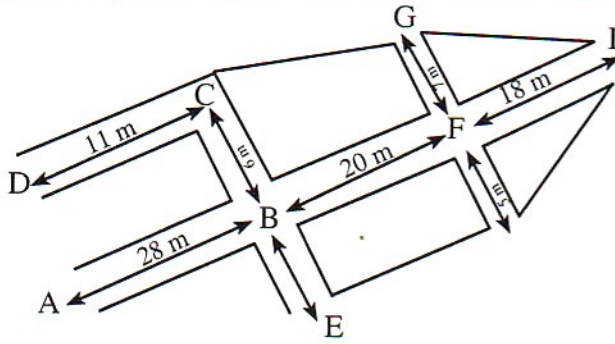


1* - يمثل الجدول الأبعاد الحقيقية والأبعاد على الخريطة لمسافات بين بعض المدن المغربية :

الرباط - القنيطرة	مراكش - أكادير	البيضاء - أكادير	
40 km	280 km	520 km	المسافات الحقيقية
2 cm	14 cm	26 cm	المسافة على الخريطة

ما هو سلم الخريطة ؟



2 - يمثل الرسم جزءا من تصميم لمدينة مرسومة بسلم 1/700 .

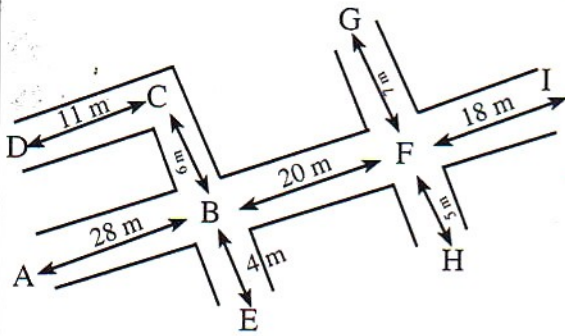
- احسب المسافة على التصميم لما يلي :

BF

FI

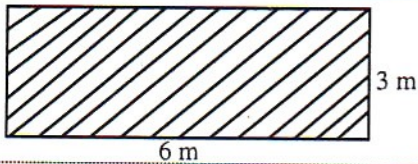
CF

3 - لاحظ الرسم ثم أتمم الجدول :



FH	FG	BE	DC	BC	FI	BF	AB	
								طول الأزقة بالستمبر
								طول الأزقة بالديسمتر

ماذا يمكنك أن تقول إذا قارنت أعداد السطر الثاني وأعداد السطر الأول ؟



4 - الرسم هو تصميم لأرض على شكل مستطيل

احسب المساحة الحقيقية بـ m^2 للمستطيل. السلم هو : 1/8000 .