

الموضوع

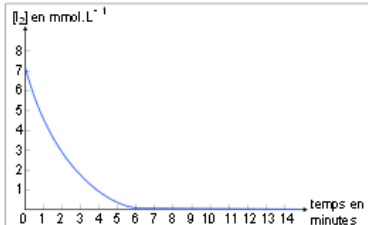
التقريب

تمرين 1:

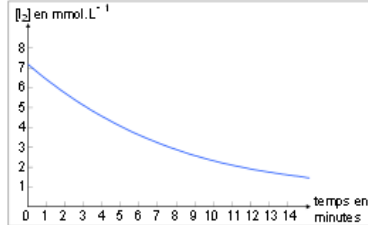
يتفاعل ثنائي اليود I_2 مع الغليكويز $C_6H_{12}O_6$ وفق تفاعل بطيء يمكن تتبع تطور تركيز ثنائي اليود خلاله.

المزدوجتان المتفاعلتان : I_2 / I^- و $C_6H_{12}O_7 / C_6H_{12}O_6$

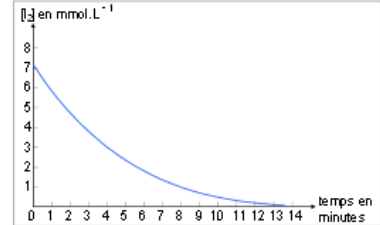
- 1- اعط معادلة التفاعل الحاصل.
- 2- ما هي الطريقة الممكن اعتمادها لتتبع تطور تركيز ثنائي اليود.
- 3- كيف يتطور تركيز ثنائي اليود مع الزمن خلال التفاعل.
- 4- ننجز نفس التفاعل تحت درجات حرارة مختلفة : $5^\circ C$ ، $25^\circ C$ و $70^\circ C$. اقرن كل منحنى بدرجة الحرارة الموافقة له.



المنحنى 3



المنحنى 2



المنحنى 1

تمرين 2:

يتفاعل ثنائي الكلور Cl_2 مع التوليين وفق تفاعل بطيء معادلته : $Cl_2 + C_7H_8 \rightarrow C_7H_7Cl + HCl$

- 1- اعط الجدول الوصفي للتفاعل.
- 2- عبر عن تقدم التفاعل x بدلالة $[Cl_2]_t$ ، $n_0(Cl_2)$ و V : حجم الخليط التفاعلي.
- 3- عبر عن السرعة الحجمية للتفاعل بدلالة $[Cl_2]_t$.
- 4- كيف تتطور السرعة الحجمية للتفاعل بدلالة الزمن.
- 5- عبر عن $[Cl_2]_{1/2}$ تركيز ثنائي الكلور عند زمن نصف التفاعل بدلالة $n_0(Cl_2)$ و V . علما أن المتفاعل المحد هو ثنائي الكلور.

تمرين 3:

تنتشر موجات طول حبل مرتبط بهزاز تردده f . حيث تنطلق الموجات من المنبع S عند $t = 0$ لتصل نقطة M من وسط الإنتشار عند اللحظة $t_M = 0,03 s$ ، حيث أن $SM = 90 cm$



نعطي شكل الحبل عند اللحظة t_M :

- 1- أحسب سرعة انتشار الموجة.
- 2- قارن حركة S و M معلا جوابك.
- 3- استنتج قيمة λ طول الموجة.
- 4- استنتج تردد المنبع f .
- 5- مثل بدون اعتبار سلم مظهر الحبل عند اللحظة $t' = 0,045 s$ مبينا موضع النقطة M .
- 6- قارن حركة مقدمة الموجة و النقطة M معلا جوابك.

تمرين 4:

نعرض حزمة ضوئية لضوء أحادي اللون طول موجته في الفراغ و الهواء $\lambda = 675 nm$ لحاجز به شق عرضه a ، فنحصل على شكل الحيود على شاشة تبعد بمسافة $D = 2 m$ عن موضع الشق، حيث أن عرض البقعة المركزية هو $L = 2,7 cm$.

- 1- مثل تبيانة التركيب التجريبي مبينا L ، D و الفرق الزاوي θ .
- 2- عبر عن الفرق الزاوي بدلالة L و D و ذلك باعتبار قيم θ صغيرة.
- 3- أحسب قيمة عرض الشق a .
- 4- في تجربة ثانية نرسل نفس الحزمة الضوئية عموديا على الوجه الأول لموشور زاويته $A = 30^\circ$ فتنتبثق من الوجه الثاني للموشور بزواوية انبثاق i' .
- 1-4 ما خاصية الموجات الضوئية التي تبقى ثابتة عند الانتقال من وسط إلى آخر.
- 2-4 أحسب طول موجة الشعاع λ' داخل زجاج الموشور علما أن معامل الإنكسار بالنسبة للشعاع هو $n = 1,334$.
- 3-4 مثل مسار الحزمة الضوئية.
- 4-4 أحسب قيمة r' زاوية ورود الحزمة الضوئية على الوجه الثاني للموشور.
- 5-4 أحسب قيمة i' زاوية انبثاق الحزمة الضوئية من الموشور.