


التحولات السريعة و التحولات البطيئة

الدرس الأول

Les réactions rapides et les réactions lentes

I. التفاعلات أكسدة – اختزال.

1. نشاط تجريبي 1:



نغمر صفيحة من فلز النحاس في محلول نترات الفضة $(Ag^+(aq) + NO_3^-(aq))$ ، و بعد مدة من الزمن نلاحظ توضع فلزي رمادي اللون على الجزء المغمور من صفيحة النحاس، كما يصير للمحلول لونا أزرقا.

(1) أعط تفسيراً لما تمت ملاحظته.

(2) حدد النوع الكيميائي الذي يلعب دور المؤكسد و الذي يلعب دور مختزل.

(3) استنتج المزدوجتين Ox/Red المتدخلتين في هذا التفاعل.

(4) استنتج المعادلة الحصيلة للتفاعل الحاصل بين أيونات الفضة و فلز النحاس.

2. خلاصة:

◆ المؤكسد:

◆ المختزل:

◆ المزدوجة مختزل/مؤكسد:

◆ الأكسدة:

◆ الاختزال:

◆ تفاعل أكسدة – اختزال:

3. تطبيق 1:

الأسئلة

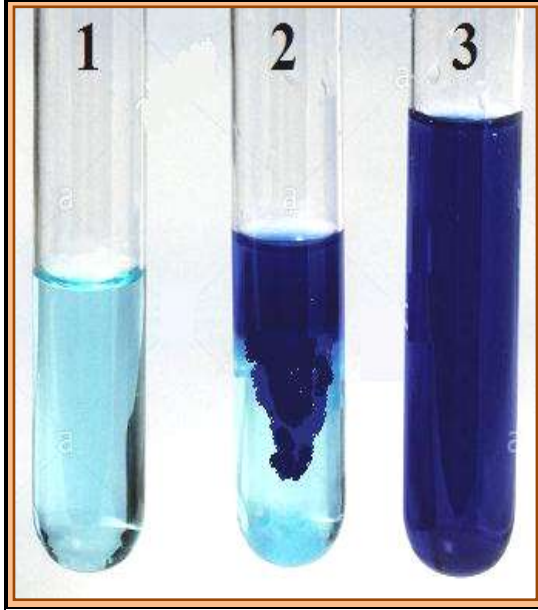
- 1) أكتب نصف معادلة التفاعل بالنسبة للمزدوجات التالية: $\text{SO}_4^{2-}(\text{aq})/\text{SO}_2(\text{aq})$ و $\text{CO}_2(\text{aq})/\text{H}_2\text{C}_2\text{O}_4(\text{aq})$.
- 2) أكتب المعادلة الحصيلة للتفاعل الحاصل بين أيونات البرمنغنات و أيونات الحديد الثاني في وسط حمضي، علما أن المزدوجتين المتدخلتين هما: $\text{Fe}^{3+}/\text{Fe}^{2+}$ و $\text{MnO}_4^-/\text{Mn}^{2+}$.

الأجوبة

II. التحولات السريعة و التحولات البطيئة.

1. التحولات السريعة:

أ. نشاط تجريبي 2:



نضيف إلى محلول مائي لكبريتات النحاس الثاني $(Cu^{2+}_{(aq)} + SO_4^{2-}_{(aq)})$ بعضا من محلول هيدروكسيد الصوديوم $(Na^+_{(aq)} + OH^-_{(aq)})$.

(1) ماذا تلاحظ؟

(2) ما اسم المركب الناتج؟

(3) أكتب معادلة التفاعل الحاصل؟ و ما اسمها؟

(4) هل يمكن وصف التفاعل الحاصل بالسرير أو البطيء؟ علل جوابك.

ب. خلاصة:

2. التحولات البطيئة:

أ. نشاط تجريبي 3:

نمزج في كأس حجما من محلول مائي ليودور البوتاسيوم $(K^+_{(aq)} + I^-_{(aq)})$ محمض بقطرات من حمض الكبريتيك، وحجما من الماء الأكسيجيني H_2O_2 ، فنلاحظ أن المحلول يأخذ لونا أصفرا يتحول تدريجيا إلى اللون البني.



بعد 5 دقائق

بعد 10 دقائق

بعد 20 دقائق

1) على ماذا يدل التطور التدريجي للون الخليط التفاعلي؟

2) هل يمكن وصف التفاعل الحاصل بالسرير أو البطيء؟ علل جوابك.

3) أكتب معادلة التفاعل الحاصل علما أن المزدوجتين المتدخلتين هما: H_2O_2/H_2O و I_2/I^- .

ب. خلاصة:

3. تقنيات التتبع الزمني للتحويلات البطيئة:

III. العوامل الحركية.

1. تأثير التركيز البدئي المتفاعلات على سرعة التفاعل الكيميائي:

أ. نشاط تجريبي 4:

نحضر في ثلاثة كؤوس أحجاما مختلفة من محلول حمض الكبريتيك المركز ليودور البوتاسيوم ثم نصب في كل من هذه الكؤوس وفي نفس اللحظة حجما من محلول الماء الأكسجيني. تاخذ جميع هذه المحاليل نفس اللون البني في لحظات مختلفة. يلخص الجدول التالي النتائج المحصل عليها:

الكأس 3	الكأس 2	الكأس 1	
0,08 mol/L	0,04 mol/L	0,02 mol/L	التركيز البدئي $[I^-]_0$
0,01 mol/L	0,01 mol/L	0,01 mol/L	التركيز البدئي $[H_2O_2]_0$
0,1 mol/L	0,1 mol/L	0,1 mol/L	التركيز البدئي $[H^+]_0$
180s	240s	300s	المدة الزمنية

1) أكتب معادلة التفاعل الحاصل.

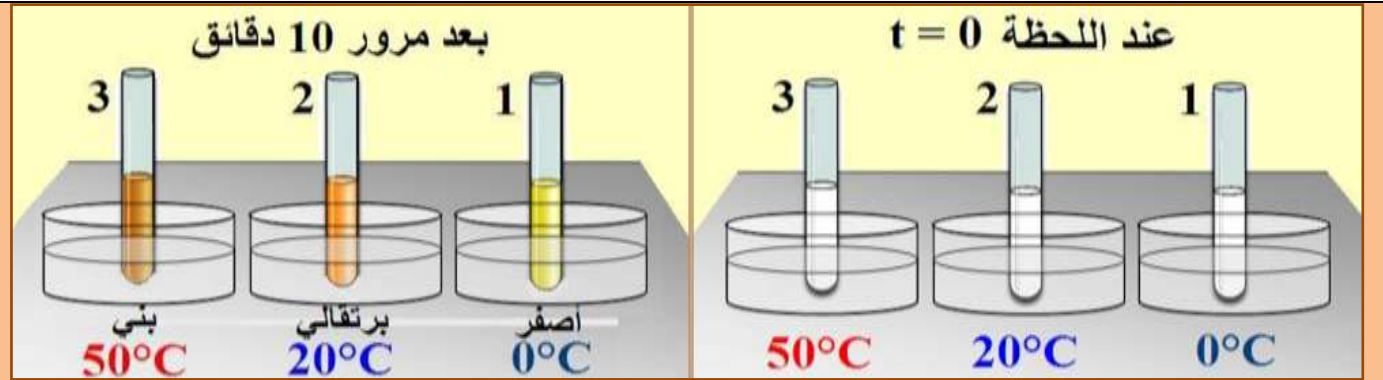
2) بمقارنة المدد الزمنية و ربطها بالتركيز البدئي للمفاعلات، استنتج تأثير هذه التراكيز البدئية على سرعة التحول.

ب. خلاصة:

2. تأثير درجة الحرارة على سرعة التفاعل الكيميائي:

أ. نشاط تجريبي 5:

نحضر ثلاث أنابيب اختبار تحتوي كلها على نفس الحجم تركيزه $C=0,2\text{mol/L}$. من محلول حمض ليودور البوتاسيوم نضع كل أنبوب في حمامات مريم لها درجات حرارة مختلفة 0°C و 20°C و 50°C ، ثم نضيف في نفس اللحظة حجما (5mL) من الماء الأوكسجيني تركيزه $C'=5.10^{-2}\text{mol/L}$ إلى كل أنبوب.



1) ماذا تلاحظ؟ ماذا تستنتج؟

ب. خلاصة:

ج. تطبيقات للعوامل الحركية:

- يحتفظ بالمواد الغذائية داخل الثلاجة قصد إبطال تفاعلات التحلل.
- يكون طهي المواد الغذائية أسرع في طنجرة الضغط، حيث يرفع الضغط الزائد درجة حرارة غليان الماء إلى 120°C تقريبا وهكذا تنقلص مدة الطهي.
- في المختبر، تتطلب عدة تحولات تسخين المجموعة المتفاعلة، مثل تمييز الأدهيدات بواسطة كاشف فيهلين أو كاشف تولينس.