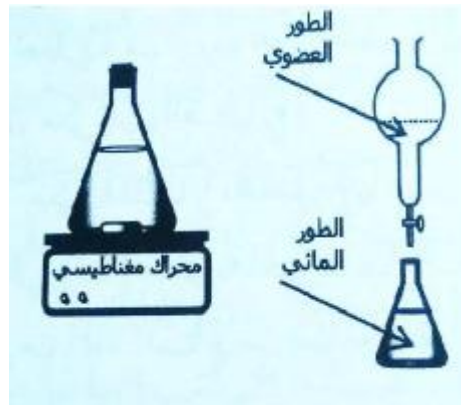


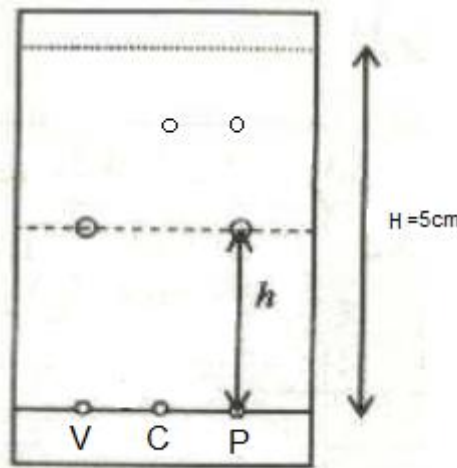
تصحيح الفرض الأول الجذع مشترك علوم الدورة الاولى

الكيمياء : 7 نقط

- 1.1- تليل اختيار التولوين :
المادة (X) أكثر ذوبانية في التولوين .
- 1.2- المرحلة الاولى : نفرغ قليلا من المحلول المائي للمادة (X) في حوجلة : ثم نضيف اليه مادة التولوين ، نحرك الخليط فتذوب المادة (X) في التولوين .
المرحلة الثانية : نسكب الخليط في أنبوب التصفيق ، نحركه ثم نتركه يهدأ فنحصل على طورين :
الطور العضوي والطور المائي .
- 1.3- رسم عملية التصفيق :
بعد أن يهدأ الخليط يوجد الطور العضوي في أعلى الانبوب والطور المائي في أسفله ، عند فتح الصنبور ينزل هذا الاخير ، وهكذا نقوم بفصل الطورين.



- 2.1- لتحديد هوية نوع كيميائي :
نحدد مميزاته الفيزيائية .
أو ننجز التحليل الكوماتوغرافي .
- 2.2- تمثيل التحليل الكروماتوغرافي المحصل عليه :



المسافة التي قطعها المذيب هي $H=5cm$
 المسافة التي قطعها النوع الكيميائي السيترال C هي : $h_C = H.R_f$
 $h_C = 5 \times 0,5 = 2,5cm$
 المسافة التي قطعها الفانيلين V هي : $h_V = H.R_f$
 $h_V = 5 \times 0,7 = 3,5cm$

فيزياء 1: 6 نقط

1- تعبير شدة قوة التجاذب الكوني المطبقة من طرف الأرض على الجسم (S).

$$F = G \frac{m.M_T}{(R_T + h)^2}$$

2- تعبير وزن الجسم (S) عند الارتفاع h :

$$P = m.g_h$$

3- بما أن شدة قوة التجاذب الكوني مساوية لوزن الجسم (S) ، فإن شدة الثقالة عند الارتفاع h تكتب :
 لدينا :

$$P = F \Rightarrow m.g_h = G \frac{m.M_T}{(R_T + h)^2} \Rightarrow g_h = G \frac{M_T}{(R_T + h)^2}$$

4.1- تعبير g_0 بدلالة R_T ، M_T و G :

عند سطح الأرض : يكون $h=0$ و $g=g_0$

نعوض h ب 0 في تعبير g_h

$$g_0 = G \frac{M_T}{(0 + h)^2} \Rightarrow g_0 = G \frac{M_T}{R_T^2}$$

2.4- إثبات تعبير g_h :

حسب تعبير كل من g_0 و g_h نكتب:

$$\begin{cases} g_h = G \frac{M_T}{(R_T + h)^2} \\ g_0 = G \frac{M_T}{R_T^2} \end{cases} \Rightarrow \frac{g_h}{g_0} = \frac{G \frac{M_T}{(R_T + h)^2}}{G \frac{M_T}{R_T^2}} \Rightarrow \frac{g_h}{g_0} = \frac{1}{\frac{(R_T + h)^2}{R_T^2}}$$

$$\frac{g_h}{g_0} = \frac{R_T^2}{(R_T + h)^2} \Rightarrow g_h = g_0 \frac{R_T^2}{(R_T + h)^2}$$

ت.ع:

$$g_h = 9,81 \times \frac{(6400.10^3)^2}{(6400.10^3 + 10.10^3)^2} = 9,78 N.kg^{-1}$$

5- حساب الارتفاع h' الذي تكون عنده $g_h = \frac{g_0}{4}$

لدينا:

$$g_h = \frac{g_0}{4} \Rightarrow g_0 \frac{R_T^2}{(R_T + h)^2} = \frac{g_0}{4} \Rightarrow \frac{R_T^2}{(R_T + h)^2} = \frac{1}{4}$$

$$\frac{R_T}{R_T + h} = \frac{1}{2} \Rightarrow R_T + h = 2R_T$$

$$h = 2R_T - R_T \Rightarrow h = R_T = 6400km$$

فيزياء 2: 6 نقط

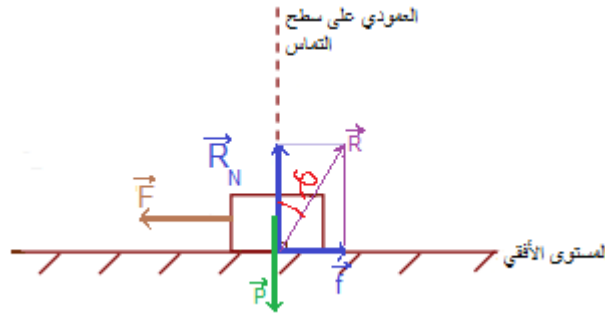
- 1- المجموعة المدروسة : {الجسم (S)}
 جرد القوى وتصنيفها
 يخضع الجسم (S) الى القوى التالية :
 \vec{P} - : وزن الجسم (S) قوة موزعة عن بعد.
 \vec{R} - : القوة المقرونة بتأثير السطح الأفقي قوة التماس موزعة.
 \vec{F} - : القوة المطبقة من طرف الدينامومتر قوة التماس مموضعة.
 2- حساب وزن الجسم (S) :
 لدينا:

$$P = mg$$

$$P = 0,26kg \times 10N.kg^{-1} = 2,6N$$

ت.ع:
 3-1- تمثيل القوى المطبقة على الجسم (S) بالسلم :
 $1cm \rightarrow 1N$

نمثل المتجهة \vec{R} بسهم طوله 3cm يكون زاوية $\varphi = 30^\circ$ مع العمودي على سطح التماس .
 نمثل المتجهة \vec{F} بسهم طوله 1,5cm
 طول سهم المتجهة \vec{P} هو 2,6N
 انظر الشكل:



- 3-2- تحديد شدة قوة الاحتكاك f :
 يمكن الاعتماد على المبيان حيث نقيس طول سهم المتجهة \vec{f} نجد
 $f=1,5N$ وباستعمال السلم نستنتج :
 يمكن استعمال العلاقة المثلثية :

$$\sin \varphi = \frac{f}{R} \Rightarrow f = R \sin \varphi \Rightarrow f = 3 \sin 30^\circ = 1,5N$$

- 4- باعتبار المجموعة المدروسة {الجسم (S)الدينامومتر (D)}
 تخضع المجموعة للتأثيرات التالية :

القوى الخارجية :

\vec{R}' - تأثير الحامل

\vec{R} - تأثير المستوى الأفقي

\vec{P} - وزن المجموعة

القوى الداخلية :

$\vec{F}_{S/D}$ - تأثير الجسم (S) على الدينامومتر (D) .

$\vec{F}_{D/S}$ - تأثير الدينامومتر (D) على الجسم (S) .

