



تصحيح الفرض الثاني

أولمبياد الرياضيات

المستوى: أجزع المشترك العلمي

التعريف الأول

لدينا a و b عددين حقيقيين بحيث : $-2 \leq a \leq 1$ و $-1 \leq b \leq 2$:

$-1 \leq b \leq 2$: لدينا	$-2 \leq a \leq 1$: لدينا
$-3 \leq b-2 \leq 0$: إذن	$-1 \leq a+1 \leq 2$: إذن
$0 \leq (b-2)^2 \leq 9$: يعني	$0 \leq (a+1)^2 \leq 4$: يعني
$0 \leq b^2 - 4b + 4 \leq 9$: أي	$0 \leq a^2 + 2a + 1 \leq 4$: أي
$-4 \leq b^2 - 4b \leq 5$: أي		
(2) : $-5 \leq -b^2 + 4b \leq 4$: ومنه	(1) : $-1 \leq a^2 + 2a \leq 3$: ومنه

بجمع (1) و (2) نجد : $-1-5 \leq a^2 + 2a - b^2 + 4b \leq 3+4$
وبالتالي فإن : $-6 \leq a^2 - b^2 + 2a + 4b \leq 7$

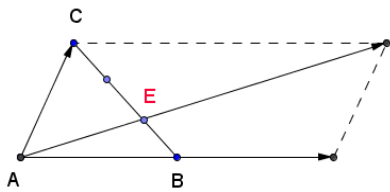
التعريف الثاني

لدينا : $\sqrt{2+\sqrt{2+\sqrt{2}}} \cdot \sqrt{2-\sqrt{2+\sqrt{2}}} = \sqrt{(2+\sqrt{2+\sqrt{2}})(2-\sqrt{2+\sqrt{2}})}$
إذن : $= \sqrt{2^2 - \sqrt{2+\sqrt{2}}^2}$
 $= \sqrt{4 - (2+\sqrt{2})}$
 $= \sqrt{2-\sqrt{2}}$
إذن حسب ما سبق لدينا : $\sqrt{2} \cdot \sqrt{2+\sqrt{2}} \cdot \sqrt{2+\sqrt{2+\sqrt{2}}} \cdot \sqrt{2-\sqrt{2+\sqrt{2}}} = \sqrt{2} \cdot \sqrt{2+\sqrt{2}} \cdot \sqrt{2-\sqrt{2}}$
إذن : $= \sqrt{2} \cdot \sqrt{(2+\sqrt{2})(2-\sqrt{2})}$
يعني : $= \sqrt{2} \cdot \sqrt{2^2 - \sqrt{2}^2}$
إذن : $= \sqrt{2} \cdot \sqrt{4-2}$
وبالتالي : $= \sqrt{2} \cdot \sqrt{2} = 2$
وبالتالي : $\sqrt{2} \cdot \sqrt{2+\sqrt{2}} \cdot \sqrt{2+\sqrt{2+\sqrt{2}}} \cdot \sqrt{2-\sqrt{2+\sqrt{2}}} = 2$



التعريف الثالث

لدينا : $\overrightarrow{AD} = 2\overrightarrow{AB} + \overrightarrow{AC} = 2\overrightarrow{AB} + (\overrightarrow{AB} + \overrightarrow{BC}) = 3\overrightarrow{AB} + \overrightarrow{BC}$



وحيث أن: $\overrightarrow{BC} = 3\overrightarrow{BE}$ أي: $\overrightarrow{BE} = \frac{1}{3}\overrightarrow{BC}$

فإن: $\overrightarrow{AD} = 3\overrightarrow{AB} + \overrightarrow{BC} = 3\overrightarrow{AB} + 3\overrightarrow{BE}$

إذن: $= 3(\overrightarrow{AB} + \overrightarrow{BE}) = 3\overrightarrow{AE}$

إذن: $\overrightarrow{AD} = 3\overrightarrow{AE}$

وبالتالي: النقط A و E و D مستقيمات.

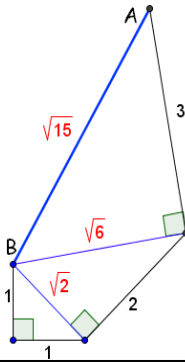
التعريف الرابع

لدينا : $\sqrt{6}^2 = 2^2 + \sqrt{2}^2$ و $\sqrt{15}^2 = 3^2 + \sqrt{6}^2$

$$\sqrt{2}^2 = 1^2 + 1^2$$

وباستعمال مبرهنت فيثاغورس على ثلاث مثلثات - انظر الشكل -

نحصل على القطعت $[AB]$ طولها $AB = \sqrt{15}$.



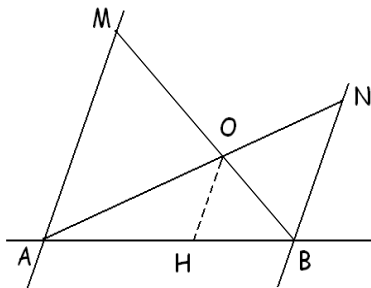
التعريف الخامس

- نعتبر المثلث AMB لدينا $(AM) \parallel (OH)$ إذن حسب مبرهنت طاليس المباشرة :

$$(1) : \frac{OH}{AM} = \frac{BH}{BA}$$

- نعتبر المثلث ANB لدينا $(BN) \parallel (OH)$ إذن حسب مبرهنت طاليس المباشرة :

$$(2) : \frac{OH}{BN} = \frac{AH}{AB}$$



بجمع (1) و (2) نجد : $\frac{OH}{AM} + \frac{OH}{BN} = \frac{AH}{AB} + \frac{BH}{BA}$

وحيث أن: $AH + BH = AB$ و $H \in [AB]$

فإن : $OH \left(\frac{1}{AM} + \frac{1}{BN} \right) = \frac{AH + BH}{AB} = \frac{AB}{AB} = 1$

ومنه : $OH \left(\frac{1}{AM} + \frac{1}{BN} \right) = 1$

$$\frac{1}{OH} = \frac{1}{AM} + \frac{1}{BN}$$

وبالتالي :